

☺ Esercizi con i numeri entro il 100

1. **Riscrivi i numeri dal più grande al più piccolo.**

65, 57, 12, 31, 28, 84, 96, 43, 7, 82, 63,
 25, 16, 98, 74, 50.
 98, _____

2. **Completa la tavola di addizione.**



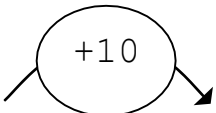
+	1	2	3	4	5	6	7	8	9
10	11								
20									
30									
40									
50									
60									
70									
80									
90									

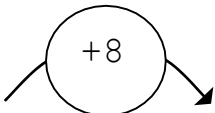
3. **Completa la tavola di sottrazione.**

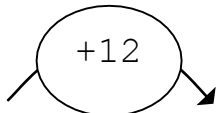


-	10	20	30	40	50	60	70	80	90
1	9								
2									
3									
4									
5									
6									
7									
8									
9									

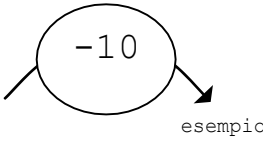
4. **Esegui le addizioni nelle macchine operatrici calcolando a mente.**


ENTRATA	OPERATORE	USCITA
 esempio		
67		77
82		
48		
36		
12		
1		
34		
41		
53		
64		
88		
90		
3		

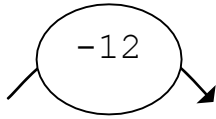
ENTRATA	OPERATORE	USCITA
		
58		
81		
75		
41		
50		
28		
4		
30		
46		
52		
1		
80		
66		

ENTRATA	OPERATORE	USCITA
		
72		
80		
63		
4		
8		
33		
15		
34		
81		
5		
25		
38		
60		

5. Esegui le sottrazioni nelle macchine operatrici calcolando a mente.

ENTRATA OPERATORE USCITA	
	
53	43
79	
31	
45	
18	
12	
26	
74	
32	
85	
61	
98	
17	

ENTRATA OPERATORE USCITA	
	
53	
79	
31	
45	
18	
12	
26	
74	
32	
85	
61	
98	
17	

ENTRATA OPERATORE USCITA	
	
53	
79	
31	
45	
18	
12	
26	
74	
32	
85	
61	
98	
17	

6. Calcola in colonna.

$$68 + 29 = \underline{\quad}$$

$$24 + 56 = \underline{\quad}$$

$$9 + 85 = \underline{\quad}$$

$$31 + 67 = \underline{\quad}$$

$$36 + 14 + 25 = \underline{\quad}$$

$$18 + 15 + 43 = \underline{\quad}$$

$$31 + 25 + 16 = \underline{\quad}$$

$$42 + 28 + 17 = \underline{\quad}$$

7. Calcola in colonna.

$$63 - 28 = \underline{\quad}$$

$$74 - 39 = \underline{\quad}$$

$$36 - 15 = \underline{\quad}$$

$$81 - 19 = \underline{\quad}$$

$$90 - 35 = \underline{\quad}$$

$$87 - 64 = \underline{\quad}$$

$$74 - 34 = \underline{\quad}$$

$$52 - 37 = \underline{\quad}$$

SALTI DI 10

Osserva attentamente la tabella e impara a fare salti da 10, in avanti (aggiungendo 10) e all'indietro (sottraendo 10)

Legenda: ↓ +10 ; ↑ -10

1	2	3	4	5	6	7	8	9	10
+10↓ ↑-10	+10↓ ↑-10	+10↓ ↑-10	+10↓ ↑-10	+10↓ ↑-10	+10↓ ↑-10	+10↓ ↑-10	+10↓ ↑-10	+10↓ ↑-10	+10↓ ↑-10
11	12	13	14	15	16	17	18	19	20
+10↓ ↑-10	+10↓ ↑-10	+10↓ ↑-10	+10↓ ↑-10	+10↓ ↑-10	+10↓ ↑-10	+10↓ ↑-10	+10↓ ↑-10	+10↓ ↑-10	+10↓ ↑-10
21	22	23	24	25	26	27	28	29	30
+10↓ ↑-10	+10↓ ↑-10	+10↓ ↑-10	+10↓ ↑-10	+10↓ ↑-10	+10↓ ↑-10	+10↓ ↑-10	+10↓ ↑-10	+10↓ ↑-10	+10↓ ↑-10
31	32	33	34	35	36	37	38	39	40
+10↓ ↑-10	+10↓ ↑-10	+10↓ ↑-10	+10↓ ↑-10	+10↓ ↑-10	+10↓ ↑-10	+10↓ ↑-10	+10↓ ↑-10	+10↓ ↑-10	+10↓ ↑-10
41	42	43	44	45	46	47	48	49	50
+10↓ ↑-10	+10↓ ↑-10	+10↓ ↑-10	+10↓ ↑-10	+10↓ ↑-10	+10↓ ↑-10	+10↓ ↑-10	+10↓ ↑-10	+10↓ ↑-10	+10↓ ↑-10
51	52	53	54	55	56	57	58	59	60

Esegui calcolando a mente (copri la tabella e metti alla prova quello che hai imparato).

Ricorda: + 10 aumenta di una decina - 10 diminuisce di una decina

10 + 10 = _____	28 + 10 = _____	14 - 10 = _____
30 + 10 = _____	39 + 10 = _____	11 - 10 = _____
40 + 10 = _____	41 + 10 = _____	15 - 10 = _____
20 + 10 = _____	33 + 10 = _____	37 - 10 = _____
13 + 10 = _____	27 + 10 = _____	43 - 10 = _____
21 + 10 = _____	10 - 10 = _____	34 - 10 = _____
45 + 10 = _____	40 - 10 = _____	12 - 10 = _____
32 + 10 = _____	30 - 10 = _____	46 - 10 = _____
44 + 10 = _____	20 - 10 = _____	23 - 10 = _____
36 + 10 = _____	50 - 10 = _____	12 - 10 = _____

PROBLEMI IN SEQUENZA

GUARDIAMO UN FILM

NELL'AULA DOVE C'È IL VIDEO REGISTRATORE LA CLASSE 2B E LA CLASSE 1B SONO ANDATE A VEDERE UN FILM.

LA CLASSE 1B È FORMATA DA **10** BAMBINE, DA **15** BAMBINI E DA **2** INSEGNANTI.

LA CLASSE 2B È FORMATA DA **12** BAMBINE, **13** BAMBINI E DA **2** INSEGNANTI.

QUANTE BAMBINE GUARDANO IL FILM?

OPERAZIONE.....

RISPOSTA

.....

.....

QUANTI BAMBINI GUARDANO IL FILM?

OPERAZIONE.....

RISPOSTA

.....

.....

QUANTI ADULTI GUARDANO IL FILM?

OPERAZIONE.....

RISPOSTA

.....

.....

SONO DI PIU' LE BAMBINE O I BAMBINI?

RISPOSTA.....

QUANTI DI PIU'?

OPERAZIONE.....

QUANTE PERSONE IN TUTTO GUARDANO I FILM?

OPERAZIONE.....

RISPOSTA.....

TUTTI INSIEME AL RISTORANTE

IN UNA PANINOTECA CI SONO **5** TAVOLI.

AL PRIMO TAVOLO SONO SEDUTI **2** ADULTI E **2** BAMBINI;

NEL SECONDO TAVOLO C'E' UN GRUPPO DI **5** BAMBINI;

NEL TERZO CI SONO **3** ADULTI E **UN** BAMBINO;

NEL QUARTO UNA SCOLARESCA COMPOSTA DA **16** ALUNNI DELLA SCUOLA ELEMENTARE E DA **2** INSEGNANTI;

IL QUINTO TAVOLO È VUOTO.

QUANTI BAMBINI CI SONO AL RISTORANTE?

OPERAZIONE.....

RISPOSTA.....

QUANTI ADULTI CI SONO AL RISTORANTE?

OPERAZIONE.....

RISPOSTA.....

SONO DI PIU' GLI ADULTI O I BAMBINI?

RISPOSTA.....**QUAL È**

LA DIFFERENZA TRA IL NUMERO DEGLI ADULTI E QUELLO DEI BAMBINI?

OPERAZIONE.....

RISPOSTA.....

QUANTE PERSONE CI SONO IN TUTTO?

OPERAZIONE.....

RISPOSTA.....

SULL'AUTOBUS

DAVANTI ALLA NOSTRA SCUOLA C'È LA FERMATA DELL'AUTOBUS DI LINEA NUMERO 88. ALLE ORE 8.45 ARRIVA L'AUTOBUS: SOPRA CI SONO **25** PASSEGGERI. L'AUTOBUS SI FERMA E SCENDONO **12** PERSONE.

QUANTI PASSEGGERI RIMANGONO SULL'AUTOBUS?

OPERAZIONE.....

RISPOSTA.....

DEI **12** PASSEGGERI SCESI, **4** VANNO A CASA, MENTRE GLI ALTRI VANNO DAVANTI ALLA FERMATA DELL'AUTOBUS DI LINEA N. 93. **QUANTI SONO I PASSEGGERI CHE PRENDERANNO IL 93?**

OPERAZIONE.....

RISPOSTA.....

ECCO L'AUTOBUS 93 : ALL' IMPROVVISI ARRIVA LA 5 E CHE VA IN GITA A BOLOGNA. SONO **25** ALUNNI E **3** MAESTRE.

QUANTE PERSONE SALGONO SULL'AUTOBUS 93?

OPERAZIONE.....

RISPOSTA.....

SULL'AUTOBUS CI SONO **40** POSTI A SEDERE.

QUALCUNO RESTERA' IN PIEDI?

RISPOSTA

SALGONO I CONTROLLORI DEI BIGLIETTI: **30** PASSEGGERI SONO IN REGOLA (HANNO IL BIGLIETTO).

QUANTI PASSGGERI NON HANNO IL BIGLIETTO?

OPERAZIONE.....

RISPOSTA.....

LUCI IN CITTA'

FRANCESCO E PAOLO PASSEGGIANO PER LA CITTÀ.

AL CALAR DELLA SERA SI ACCENDONO LE ILLUMINAZIONI.

IL PAPÀ DI FRANCESCO HA UN NEGOZIO DI ABBIGLIAMENTO CON UN' INSEGNA LUMINOSA DI **24** LAMPADINE.;

LO ZIO DI PAOLO HA UN NEGOZIO DI ALIMENTARI CON UN'INSEGNA LUMINOSA DI **43** LAMPADINE.

QUALE DELLE 2 INSEGNE E' PIU' LUMINOSA?

RISPOSTA.....

QUANTE LAMPADINE IN PIU' HA?

OPERAZIONE.....

RISPOSTA

QUANTE LAMPADINE CI SONO IN TUTTO?

OPERAZIONE.....

RISPOSTA

LA FAMIGLIA BIANCHI

LA FAMIGLIA BIANCHI È FORMATA DA 5 PERSONE: MAMMA, PAPÀ E 3 FIGLI (LUCIANO, GIACOMO E GIADA).

GIADA HA **5** ANNI; LUCIANO NE HA IL **DOPPIO**.

QUANTI ANNI HA LUCIANO?

OPERAZIONE

RISPOSTA

GIACOMO HA IL **TRIPLO** DEGLI ANNI DI GIADA.

QUANTI ANNI HA GIACOMO?

OPERAZIONE

RISPOSTA

QUANTI ANNI HANNO I 3 FIGLI INSIEME?

OPERAZIONE

RISPOSTA

LA MAMMA HA **40** ANNI E IL PAPÀ NE HA **51**.

CHE DIFFERENZA D'ETÀ TRA I DUE ?

OPERAZIONE

RISPOSTA