

LO SCHELETRO E LE SUE OSSA

1 Leggi e collega ogni riquadro alla descrizione giusta.

Ossso lungo

Ossso in cui la lunghezza e la larghezza sono quasi equivalenti e con uno spessore ridotto.

Ossso corto




Ossso in cui le tre dimensioni sono molto simili.

Ossso piatto

Ossso in cui la dimensione della lunghezza prevale sulla larghezza e lo spessore.



2 Osserva le illustrazioni delle ossa del corpo umano e scrivi se è raffigurato un osso lungo, un osso corto o un osso piatto.

Il sistema muscolare

- Inserisci i seguenti nomi nei giusti cartellini:

bicipite - quadricipite - addominali - tibiale
grande pettorale - deltoide - sartorio - frontale

