

# RAGGRUPPARE PER 10



SVOLGETE QUESTE ATTIVITÀ IN COPPIA.

- 1** CHIEDETE ALLA MAMMA O AL PAPÀ DI DARVI 10 MONETINE DA 1 CENTESIMO A TESTA.



- 2** APPOGGIATE LE 20 MONETINE SUL BANCO E RAGGRUPPATE PER 10.

- 3** RISPONDETE ALLE DOMANDE.

- QUANTI GRUPPI DA 10 AVETE FATTO? .....
- QUANTE MONETINE RIMANGONO FUORI DAI GRUPPI DI 10? .....

- 4** RIMETTETE TUTTE LE MONETINE SPARSE SUL BANCO, POI TOGLIETENE 6. RAGGRUPPATE **PER 10** LE MONETINE RIMASTE.

- 5** ORA INDICATE CON UNA **x** LA RISPOSTA GIUSTA.

- QUANTI GRUPPI DA 10 AVETE FATTO? 

1	2
---	---
- QUANTE DECINE AVETE FORMATO? 


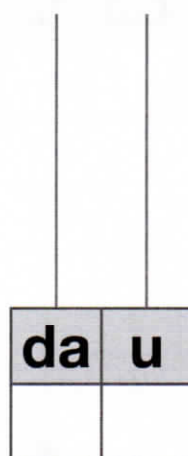

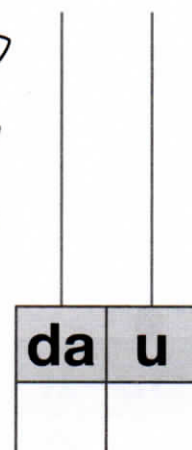
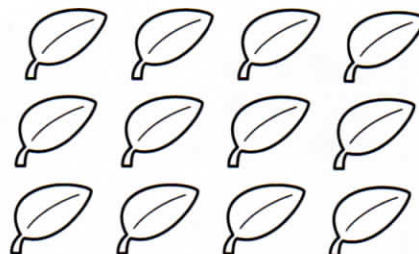
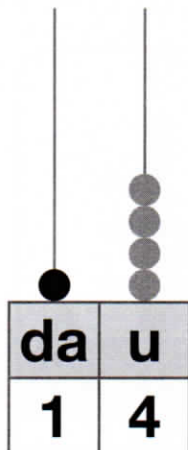
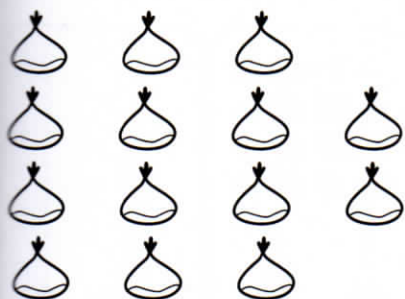
0	1
---	---
- QUANTE MONETINE SONO RIMASTE FUORI DAL GRUPPO? 

4	6
---	---
- LE MONETINE FUORI DAL GRUPPO QUANTE UNITÀ SONO? 

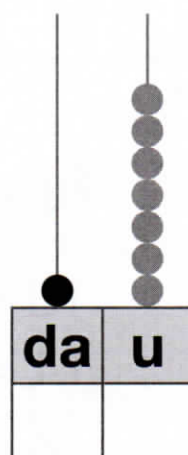

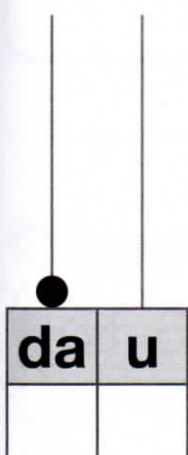
4	6
---	---

# SUGLI ABACHI

**1 RAGGRUPPA PER 10 GLI ELEMENTI, DISEGNA LE PALLINE E REGISTRA I NUMERI SUGLI ABACHI.**



**2 REGISTRA I NUMERI SUGLI ABACHI, POI DISEGNA DEI QUADRATINI E RAGGRUPPA PER 10.**



**3 SUL QUADERNO DISEGNA, RAGGRUPPA PER 10 E RAPPRESENTA CON L'ABACO I NUMERI:**

11 • 13 • 18 • 19



# I NUMERI DA 10 A 15

**1 RAPPRESENTA CON LE PALLINE E SCRIVI IN CIFRE E IN LETTERE I NUMERI SUGLI ABACHI.**

da	u
1	0

DIECI

da	u

da	u

da	u

da	u


da	u

**2 COMPONI I NUMERI.**

- 1 da 0 u = 10
- 1 da 1 u = .....
- 1 da 2 u = .....
- 1 da 3 u = .....
- 1 da 4 u = .....
- 1 da 5 u = .....

**3 SCOMPONI I NUMERI.**

- 10 = 1 da ..... u
- 11 = 1 da ..... u
- 12 = 1 ..... u
- 13 = ..... 3 u
- 14 = ..... u
- 15 = ..... u



# I NUMERI DA 16 A 19

**1** RAPPRESENTA CON LE PALLINE E SCRIVI IN CIFRE E IN LETTERE I NUMERI SUGLI ABACHI.

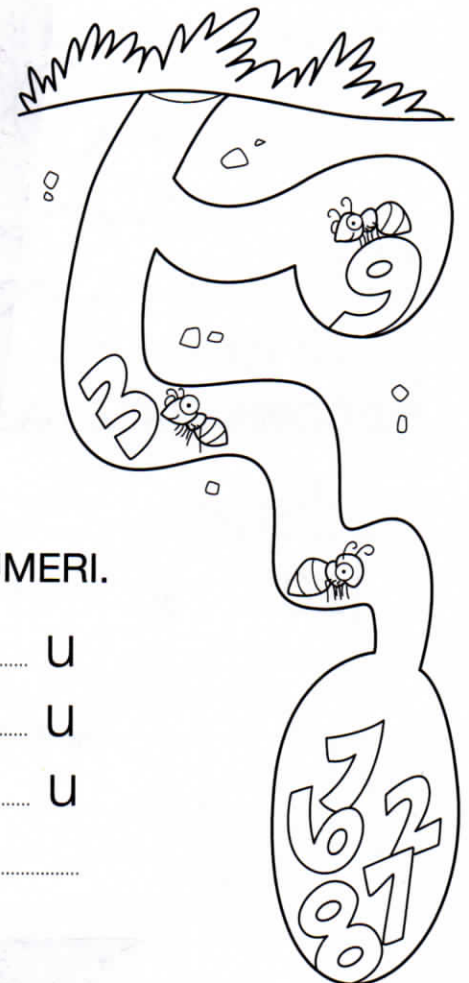
da	u
1	6

SEDICI

da	u

da	u

da	u



**2** COMPONI I NUMERI.

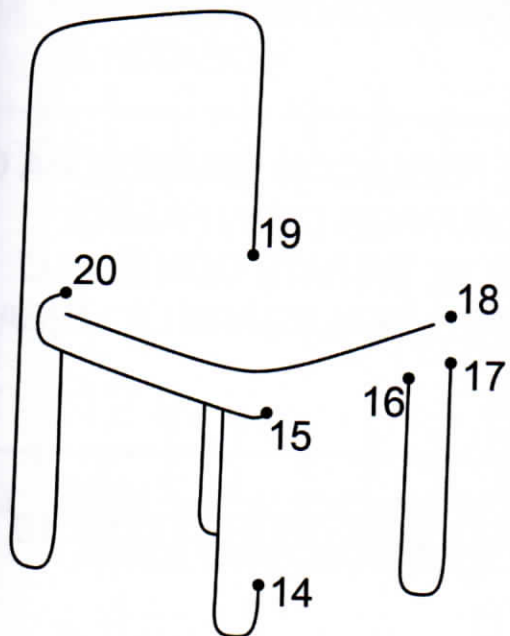
- 1 da 6 u = .....
- 1 da 7 u = .....
- 1 da 8 u = .....
- 1 da 9 u = .....

**3** SCOMPONI I NUMERI.


- 16 = 1 da ..... u
- 17 = 1 da ..... u
- 18 = 1 ..... u
- 19 = .....

# I NUMERI FINO A 20




**1 UNISCI I PUNTINI DA 14 A 20 PER COMPLETARE LA SEDIA.**



**2 UNISCI I PUNTINI DA 20 A 9 PER COMPLETARE IL CANE.**



**3 IN OGNI FIORE COLORA DI AZZURRO I NUMERI MINORI E DI GIALLO I NUMERI MAGGIORI DEL NUMERO AL CENTRO.**



**4 SCRIVI IL NUMERO PRECEDENTE.**

..... 12                      ..... 18  
 ..... 20                      ..... 16

**5 SCRIVI IL NUMERO SUCCESSIVO.**


13 .....                      19 .....  
 10 .....                      16 .....



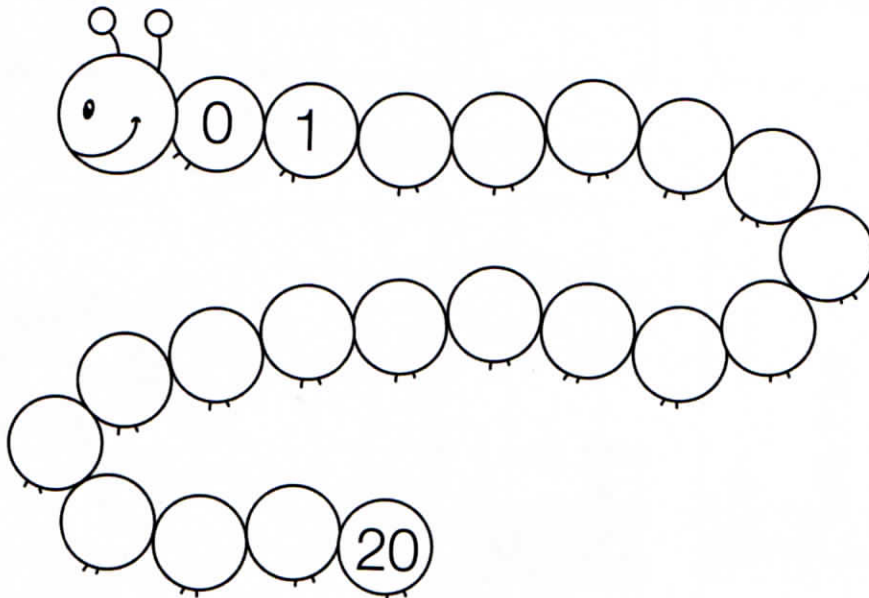
# DA 0 A 20 E DA 20 A 0

1 RISCRIVI I SEGUENTI NUMERI SULLA LINEA.

**11**   **20**   **7**   **13**   **10**   **17**   **16**



2 COMPLETA IL BRUCO CON I NUMERI DA 0 A 20.



3 COMPLETA LE CASE CON I NUMERI DA 20 A 0.

