

LA DECINA

CECILIA E FEDERICO PORTANO
A SCUOLA LE LORO CANNUCCE.
COME POSSONO CONTARLE?

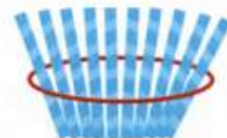


- FAI LA TUA IPOTESI.
POI CONFRONTATI CON UN
COMPAGNO O UNA COMPAGNA.

CECILIA HA AVUTO UN'IDEA!



FACCIAMO FASCETTI DA 10 CANNUCCE, COME
LE DITA DELLE NOSTRE MANI. POI LEGHIAMO
OGNI FASCETTO CON UN ELASTICO.




10 CANNUCCE → 1 FASCETTO

OGNI GRUPPO DA **10** ELEMENTI SI CHIAMA
DECINA E SI SCRIVE **da**.

ALLORA **10** CANNUCCE

DIVENTANO

1 da DI CANNUCCE



DECINE E UNITÀ

● DISEGNA 1 da DI



● DISEGNA 1 da DI



● DISEGNA 1 da DI



● DISEGNA 1 da DI



● OSSERVA.



1 da DI FIGURINE



1 da DI FIGURINE
e 3 u DI FIGURINE



OGNI ELEMENTO SINGOLO SI CHIAMA **UNITÀ** E SI SCRIVE **u**.

● CONTA RAGGRUPPANDO PER 10, COME NELL'ESEMPIO.



1 da

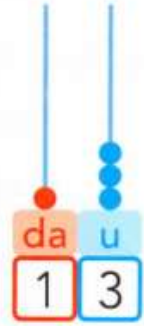
E



3 u

QUANTE DECINE?

QUANTE UNITÀ?



E




QUANTE DECINE?

QUANTE UNITÀ?



● CONTA, RAGGRUPPA E SCRIVI IL NUMERO.




da u



da u



da u



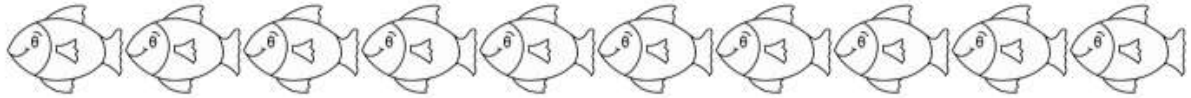
da u

I NUMERI ORDINALI

😊 COMPRENDI E IMPARA

I NUMERI ORDINALI (PRIMO, SECONDO, TERZO...) SERVONO PER INDICARE UN POSTO, UNA FILA, UNA CLASSIFICA, UN ORDINE.

✍️ COLORA I PESCIOLINI COME INDICATO SOTTO.



IL PRIMO PESCIOLINO È GIALLO

IL SECONDO PESCIOLINO È COME IL NONO

IL QUARTO PESCIOLINO È VERDE

IL QUINTO PESCIOLINO È VIOLETTO

IL SESTO PESCIOLINO È ROSSO

IL TERZO PESCIOLINO È COME IL SESTO

IL SETTIMO PESCIOLINO È ARANCIONE

L'OTTAVO PESCIOLINO È COME IL PRIMO

IL NONO PESCIOLINO È AZZURRO

IL DECIMO PESCIOLINO È ROSA

✍️ OSSERVA L'ORDINE DEGLI ALUNNI SEDUTI IN CLASSE E POI RISPONDI.



1. QUALE FILA OCCUPANO MATTEO E DAVIDE? _____
2. QUALE FILA OCCUPANO GABRIELE E JACOPO? _____
3. QUALE FILA OCCUPANO MYRIAM E ANITA? _____
4. QUALE FILA OCCUPANO EMMA E ALICE? _____
5. IN QUALE FILA È SEDUTA ILARIA? _____
6. IN QUALE FILA È SEDUTO ALESSIO? _____
7. IN QUALE FILA È SEDUTO NICOLÒ? _____
8. IN QUALE FILA È SEDUTA JASMINE? _____

TUTTI IN FILA

● OSSERVA I BAMBINI: IN CHE ORDINE SONO?



● SCRIVI I NOMI E COLORA LE MAGLIE COME INDICATO.

LA PRIMA È COLORA DI 

LA SECONDA È COLORA DI 

IL TERZO È COLORA DI 

IL QUARTO È COLORA DI 

IL QUINTO È COLORA DI 

LA SESTA È COLORA DI 

IL SETTIMO È COLORA DI 


L'OTTAVO È COLORA DI 

LA NONA È COLORA DI 

IL DECIMO È COLORA DI 

NUMERI ORDINALI

- COLORA GLI AEREI DI CARTA SEGUENDO LE INDICAZIONI.
- IL PRIMO DI ROSSO.
- IL SECONDO DI VERDE.
- IL TERZO E IL DECIMO DI GIALLO.
- IL QUARTO E IL SESTO DI BLU.
- IL QUINTO DI ARANCIONE.
- IL SETTIMO E IL NONO DI VIOLA.
- L'OTTAVO DI GRIGIO.

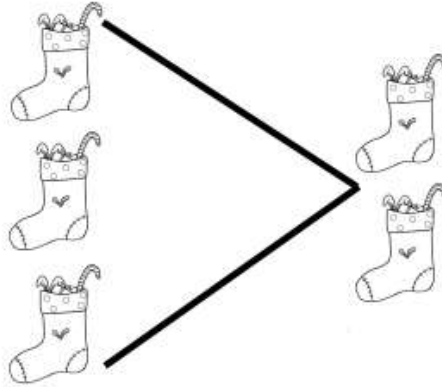


● COMPLETA LA TABELLA.

| | | | | |
|-------|-------|--------|-------|--------|
| 1 | 2 | 3 | 4 | 5 |
| PRIMO | | | | QUINTO |
| 6 | 7 | 8 | 9 | 10 |
| | | OTTAVO | | |

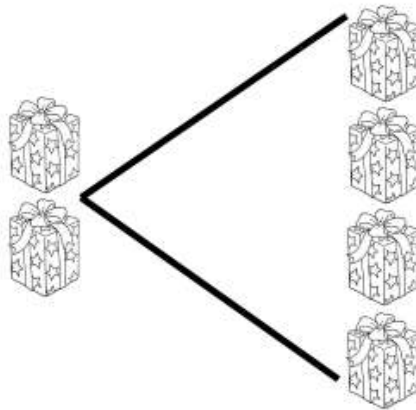
MAGGIORE, MINORE, UGUALE.

OSSERVA I DISEGNI:



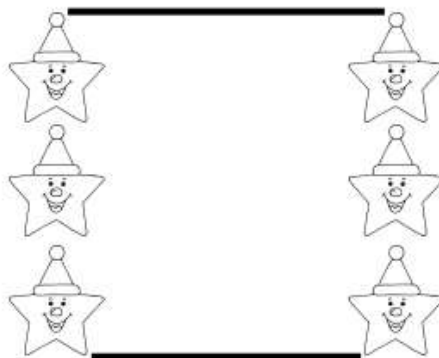
3 È MAGGIORE DI 2.

PER DIRE MAGGIORE SI USA IL SEGNO >



2 È MINORE DI 4.

PER DIRE MINORE SI USA IL SEGNO <



3 È UGUALE A 3.

PER DIRE UGUALE SI USA IL SEGNO =

MAGGIORE

COLORA PER OGNI COPPIA IL NUMERO MAGGIORE (PIÙ GRANDE).



MINORE

COLORA PER OGNI COPPIA IL NUMERO MINORE (PIÙ PICCOLO).



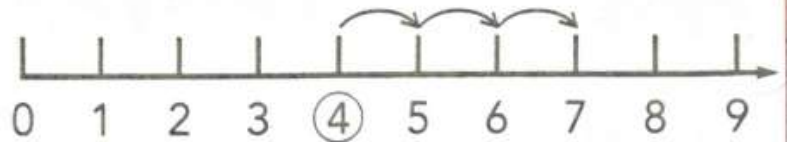


ADDIZIONI SULLA LINEA DEI NUMERI



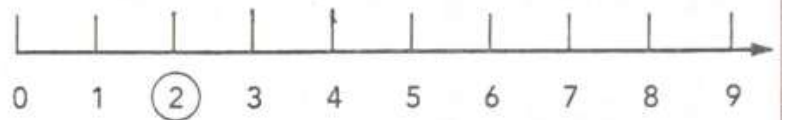
dice "AVANTI"

$$4 + 3 = 7$$

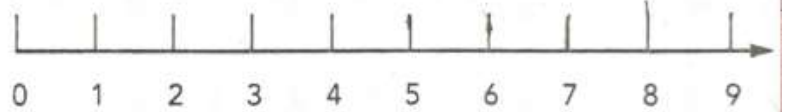


Conta in avanti sulla linea dei numeri poi scrivi il risultato.

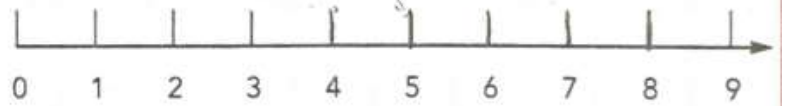
$$2 + 3 = \dots\dots$$



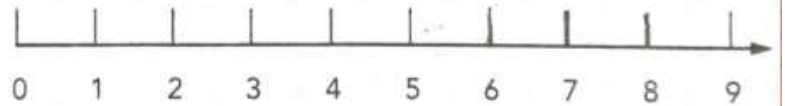
$$5 + 4 = \dots\dots$$



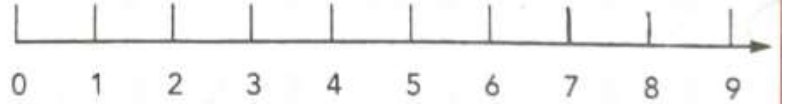
$$3 + 5 = \dots\dots$$



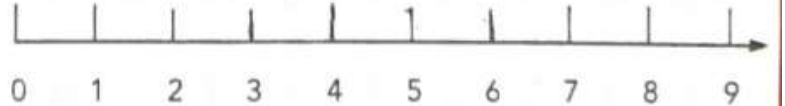
$$6 + 2 = \dots\dots$$



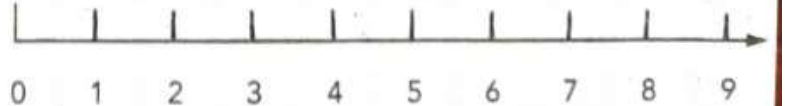
$$7 + 1 = \dots\dots$$



$$2 + 4 = \dots\dots$$

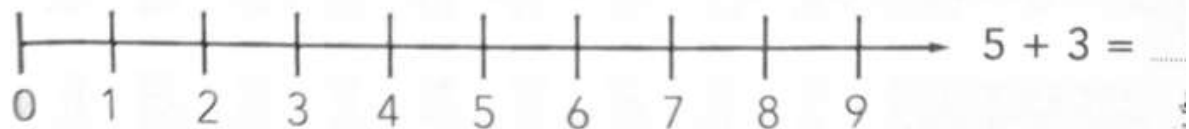
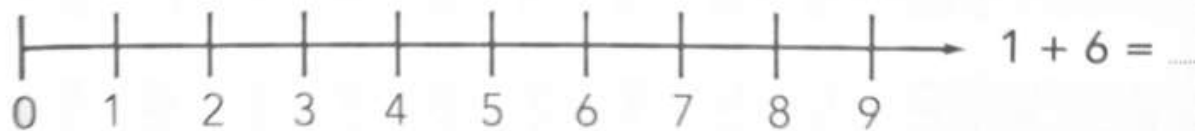
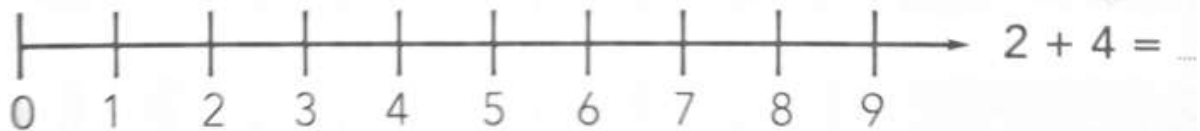
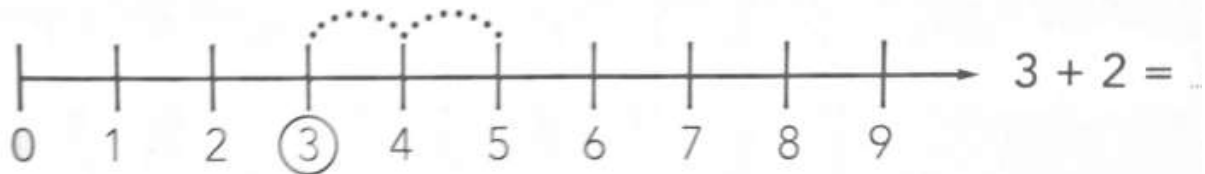


$$1 + 8 = \dots\dots$$




I SALTI DI FELICETTO

- IL CONIGLIETTO FELICETTO PARTE DA 3 E FA 2 SALTELLI. A QUALE NUMERO ARRIVA? DISEGNA I SALTELLI DI FELICETTO E CONTA.



PROBLEMI ILLUSTRATI CON LE ADDIZIONI

 OSSERVA, RAGIONA, CONTA E RISPONDI.

LE MASCHERE



QUANTE MASCHERE DA SPIDERMAN? ____
 QUANTE MASCHERE DA FARFALLA? ____
 QUANTE MASCHERE IN TUTTO? ____

RISOLVO IL PROBLEMA CON L'OPERAZIONE

___ + ___ = ____

I DOLCI



QUANTI BIGNÈ? ____
 QUANTI CORNETTI? ____
 QUANTI DOLCI IN TUTTO? ____

RISOLVO IL PROBLEMA CON L'OPERAZIONE

___ + ___ = ____

GLI ANIMALI




QUANTE RANE? ____
 QUANTE PAPERE? ____
 QUANTI ANIMALI IN TUTTO? ____

RISOLVO IL PROBLEMA CON L'OPERAZIONE

___ + ___ = ____

LE BARCHE


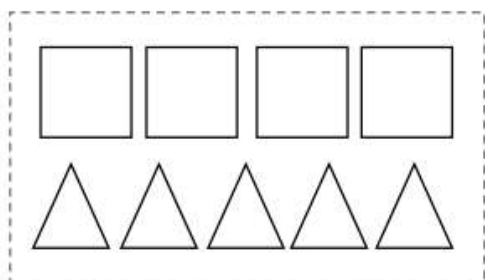


QUANTE BARCHE GRANDI? ____
 QUANTE BARCHE PICCOLE? ____
 QUANTE BARCHE IN TUTTO? ____

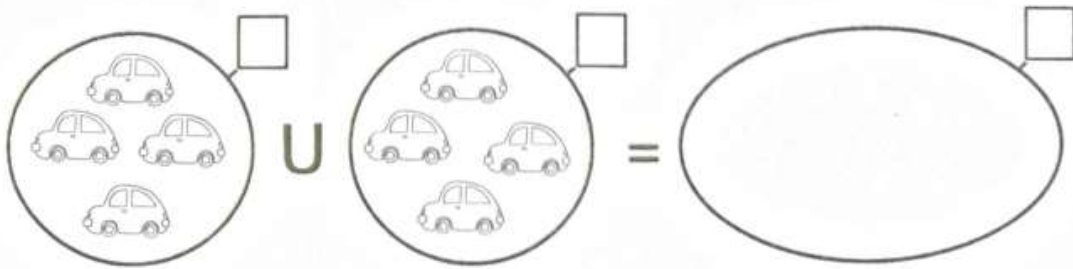
RISOLVO IL PROBLEMA CON L'OPERAZIONE

___ + ___ = ____

 RITAGLIA GLI INSIEMI E SCRIVI I PROBLEMI SUL QUADERNO COME IN QUESTA SCHEDA.



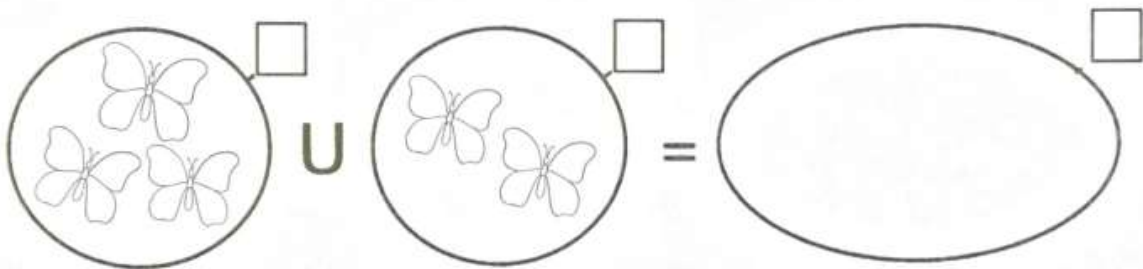
CON GLI INSIEMI



CON I NUMERI

$$\square + \square = \square$$

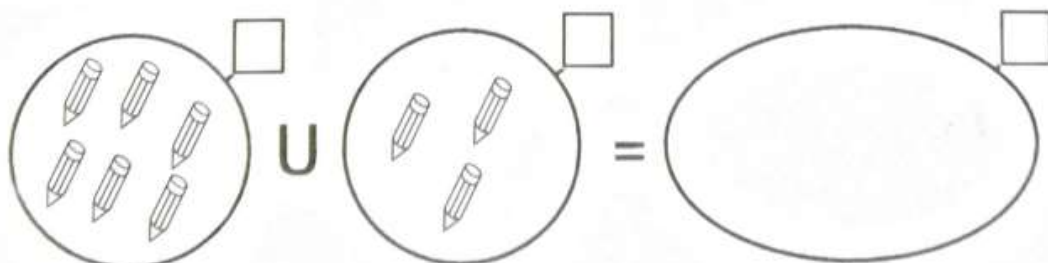
CON GLI INSIEMI



CON I NUMERI

$$\square + \square = \square$$

CON GLI INSIEMI




CON I NUMERI

$$\square + \square = \square$$

QUANTI SONO IN TUTTO?

► COLORA IL DISEGNO. POI CONTA GLI ANIMALI E COMPLETA.



- QUANTI  NEL RECINTO?
- QUANTI  FUORI?
- QUANTI  IN TUTTO?
- QUANTE  NEL RECINTO?
- QUANTE  FUORI?
- QUANTE  IN TUTTO?
- QUANTI  NEL RECINTO?
- QUANTI  FUORI?
- QUANTI  IN TUTTO?





ADDIZIONI CON LE DITA

1

COLORA DI GIALLO LE DITA CHE CORRISPONDONO AL PRIMO NUMERO E DI VERDE LE DITA CHE CORRISPONDONO AL SECONDO NUMERO. POI COMPLETA LE ADDIZIONI.

$3 + 4 = \dots\dots\dots$

$7 + 2 = \dots\dots\dots$

$3 + 6 = \dots\dots\dots$

$4 + 5 = \dots\dots\dots$

$8 + 1 = \dots\dots\dots$

$2 + 6 = \dots\dots\dots$

$3 + 3 = \dots\dots\dots$

$1 + 7 = \dots\dots\dots$

$4 + 4 = \dots\dots\dots$

$4 + 5 = \dots\dots\dots$

IMPARIAMO UNDICI

✍ RISCIRVI SUL QUADERNO TANTE VOLTE.

11 UNDICI undici undici

✍ CONTA LE PALLINE E RISPONDI.



QUANTE PALLINE SONO? _____


✍ RAGGRUPPA LE PALLINE PER 10 E REGISTRA IL NUMERO IN TABELLA.

| | |
|--------|-------|
| | |
| da | u |
| decine | unità |

✍ RAPPRESENTA 11 CON L'ABACO COLORANDO DI ROSSO LA CASELLA DELLE DECINE E DI BLU QUELLA DELLE UNITÀ.

| | |
|--------|-------|
| | |
| 1 | 1 |
| da | u |
| decine | unità |

✍ COMPLETA LA LINEA DEI NUMERI FINO A 11



😊 ECCO IL NUMERO ORDINALE: UNDICESIMO 11° - UNDICESIMA 11ª

✍ COLORA L'UNDICESIMO CUORE.

✍ COLORA L'UNDICESIMA STELLA.

✍ SUL TUO QUADERNO ESEGUI QUESTE ADDIZIONI SULLA LINEA DEI NUMERI. DISEGNA TU OGNI LINEA!

$$7 + 4 = \underline{\quad}$$

$$3 + 5 = \underline{\quad}$$

$$10 + 1 = \underline{\quad}$$

$$6 + 5 = \underline{\quad}$$

$$2 + 7 = \underline{\quad}$$

✍ SUL TUO QUADERNO COPIA ED ESEGUI QUESTE ADDIZIONI CONTANDO CON LE DITA.

$$9 + 2 = \underline{\quad}$$

$$3 + 8 = \underline{\quad}$$

$$5 + 6 = \underline{\quad}$$

$$7 + 3 = \underline{\quad}$$

$$3 + 6 = \underline{\quad}$$

IMPARIAMO DODICI

✎ RISCIRVI SUL QUADERNO TANTE VOLTE.

12 DODICI dodici dodici

✎ CONTA LE PALLINE E RISPONDI.

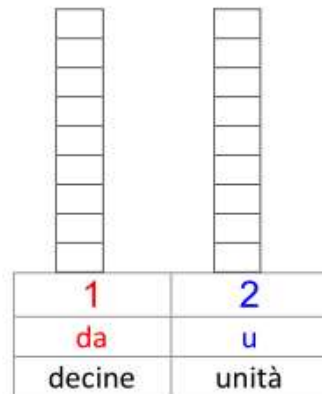


QUANTE PALLINE SONO? _____

✎ RAGGRUPPA LE PALLINE PER 10 E REGISTRA IL NUMERO IN TABELLA.

| | |
|--------|-------|
| | |
| da | u |
| decine | unità |

✎ RAPPRESENTA 12 CON L'ABACO COLORANDO DI ROSSO LA CASELLA DELLE DECINE E DI BLU QUELLA DELLE UNITÀ.



✎ COMPLETA LA LINEA DEI NUMERI FINO A 12



☺ ECCO IL NUMERO ORDINALE: DODICESIMO 12° - DODICESIMA 12ª

✎ COLORA IL DODICESIMO FIORE.

✎ COLORA LA DODICESIMA FRECCIA.

✎ SUL TUO QUADERNO ESEGUI QUESTE ADDIZIONI SULLA LINEA DEI NUMERI. DISEGNA TU OGNI LINEA!

- 4 + 8 = _____
- 6 + 5 = _____
- 8 + 3 = _____
- 6 + 6 = _____
- 5 + 7 = _____

✎ SUL TUO QUADERNO COPIA ED ESEGUI QUESTE ADDIZIONI CONTANDO CON LE DITA.

- 11 + 1 = _____
- 2 + 10 = _____
- 8 + 4 = _____
- 5 + 4 = _____
- 0 + 12 = _____

IMPARIAMO TREDICI

✍ RISCIRVI SUL QUADERNO TANTE VOLTE.

13 TREDICI tredici *tredici*

✍ CONTA LE PALLINE E RISPONDI.



QUANTE PALLINE SONO? _____

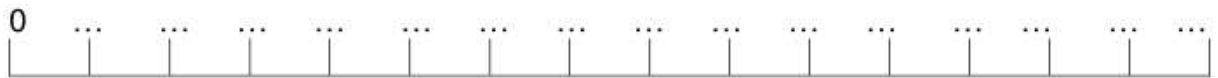
✍ RAGGRUPPA LE PALLINE PER 10 E REGISTRA IL NUMERO IN TABELLA.

| | |
|--------|-------|
| | |
| da | u |
| decine | unità |

✍ RAPPRESENTA 13 CON L'ABACO COLORANDO DI ROSSO LA CASELLA DELLE DECINE E DI BLU QUELLA DELLE UNITÀ.

| | |
|--------|-------|
| 1 | 3 |
| da | u |
| decine | unità |

✍ COMPLETA LA LINEA DEI NUMERI FINO A 13



☺ ECCO IL NUMERO ORDINALE: TREDICESIMO 13° - TREDICESIMA 13ª

✍ COLORA IL TREDICESIMO FIORE E LA 13ª FARFALLA.



✍ SUL TUO QUADERNO ESEGUI QUESTE ADDIZIONI SULLA LINEA DEI NUMERI. DISEGNA TU OGNI LINEA!

$6 + 7 = \underline{\quad}$
 $3 + 8 = \underline{\quad}$
 $4 + 6 = \underline{\quad}$
 $0 + 11 = \underline{\quad}$
 $5 + 7 = \underline{\quad}$

✍ SUL TUO QUADERNO COPIA ED ESEGUI QUESTE ADDIZIONI CONTANDO CON LE DITA.



$10 + 3 = \underline{\quad}$
 $6 + 5 = \underline{\quad}$
 $11 + 2 = \underline{\quad}$
 $5 + 8 = \underline{\quad}$
 $3 + 9 = \underline{\quad}$

IMPARIAMO QUATTORDICI


 RISCIRVI SUL QUADERNO TANTE VOLTE.

14 QUATTORDICI quattordici *quattordici*


 CONTA LE PALLINE E RISPONDI.

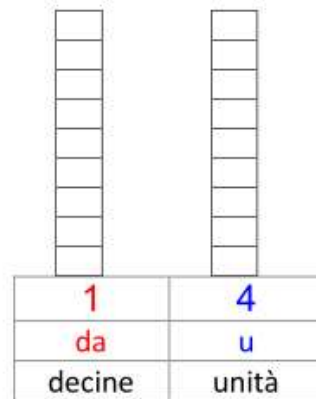


QUANTE PALLINE SONO? _____

 RAGGRUPPA LE PALLINE PER 10 E REGISTRA IL NUMERO IN TABELLA.

| | |
|--------|-------|
| | |
| da | u |
| decine | unità |

 RAPPRESENTA 14 CON L'ABACO COLORANDO DI ROSSO LA CASELLA DELLE DECINE E DI BLU QUELLA DELLE UNITÀ.




 COMPLETA LA LINEA DEI NUMERI FINO A 14




😊 ECCO IL NUMERO ORDINALE: QUATTORDICESIMO 14° - QUATTORDICESIMA 14ª

 COLORA IL QUATTORDICESIMO UCCELLINO E LA 12ª STELLA.



 SUL TUO QUADERNO ESEGUI QUESTE ADDIZIONI SULLA LINEA DEI NUMERI. DISEGNA TU OGNI LINEA!


- 5 + 6 = _____
- 4 + 8 = _____
- 7 + 5 = _____
- 6 + 7 = _____
- 10 + 3 = _____

 SUL TUO QUADERNO COPIA ED ESEGUI QUESTE ADDIZIONI CONTANDO CON LE DITA.

- 5 + 9 = _____
- 4 + 10 = _____
- 12 + 2 = _____
- 8 + 5 = _____
- 7 + 6 = _____



IMPARIAMO QUINDICI


 RISCIRVI SUL QUADERNO TANTE VOLTE.

15 QUINDICI quindici *quindici*


 CONTA LE PALLINE E RISPONDI.

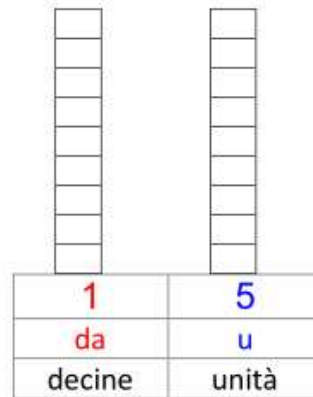


QUANTE PALLINE SONO? _____

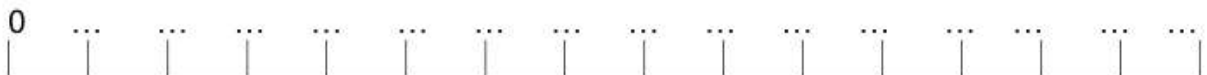
 RAGGRUPPA LE PALLINE PER 10 E REGISTRA IL NUMERO IN TABELLA.

| | |
|--------|-------|
| | |
| da | u |
| decine | unità |

 RAPPRESENTA 15 CON L'ABACO COLORANDO DI ROSSO LA CASELLA DELLE DECINE E DI BLU QUELLA DELLE UNITÀ.




 COMPLETA LA LINEA DEI NUMERI FINO A 15




 ECCO IL NUMERO ORDINALE: QUINDICESIMO 15° - QUINDICESIMA 15ª

 COLORA LA QUINTA AUTOMOBILINA E IL 15° GATTO.



 SUL TUO QUADERNO ESEGUI QUESTE ADDIZIONI SULLA LINEA DEI NUMERI. DISEGNA TU OGNI LINEA!

- 6 + 7 = _____
- 3 + 9 = _____
- 8 + 6 = _____
- 5 + 10 = _____
- 11 + 3 = _____

 SUL TUO QUADERNO COPIA ED ESEGUI QUESTE ADDIZIONI CONTANDO CON LE DITA.

- 10 + 5 = _____
- 7 + 7 = _____
- 6 + 8 = _____
- 9 + 6 = _____
- 11 + 4 = _____

