










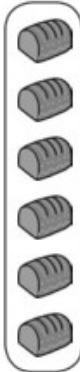

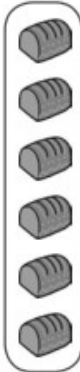
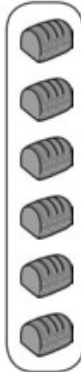
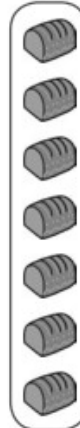
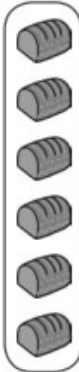
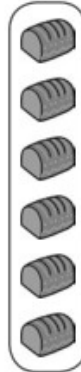



DISEGNA OGNI SITUAZIONE POI METTI IL RISULTATO SUI PUNTINI

<p>IL PASTICCIERE MAX HA PREPARATO 20 TORTINE ALLA MARMELLATA E DEVE SISTEMARLE IN MODO CHE SU OGNI VASSOIO CI SIANO 4 TORTINE. DI QUANTI VASSOI HA BISOGNO MAX PER SISTEMARE LE SUE DELIZIE?.....</p>	
<p>MAX, IL PASTICCIERE, HA A DISPOSIZIONE 24 OVETTI DI CIOCCOLATO. CON QUESTI DEVE DECORARE 3 TORTE, METTENDO SU OGNI TORTA LO STSSO NUMERO DI OVETTI. QUANTI OVETTI METTERA' MAX SU OGNI TORTA?.....</p>	
	<p>LA MAMMA HA ACQUISTATO 15 VIOLETTE E VUOLE PIANTARLE NEI SUOI 3 VASI PER ABBELLIRE IL BALCONE. QUANTE VIOLETTE METTERA' IN OGNI VASO?.....</p>
	<p>IL NONNO HA RACCOLTO 18 FUNGHI E NE DISPONE 6 IN OGNI CESTINO. QUANTI CESTINI SERVIRANNO AL NONNO?.....</p>
	<p>LA NONNA HA RACCOLTO INVECE 35 FRAGOLINE DI BOSCO E LE SISTEMA, IN PARTI UGUALI, IN 5 COPPETTE. QUANTE FRAGOLINE CONTERRA' OGNI COPPETTA?.....</p>

🎯 Indica con una crocetta lo schema e la risposta corretti.

🎯 Alan, Bruno e Clara vogliono dividere in parti uguali fra loro 19 cioccolatini. Quanti cioccolatini avrà ciascun bambino?

Alan	Bruno	Clara	Alan	Bruno	Clara	Alan	Bruno	Clara
								
								
								
Ogni bambino avrà 6 cioccolatini. Resta 1 cioccolatino.			Ogni bambino avrà 6 cioccolatini.			Alan avrà 7 cioccolatini; Bruno e Clara avranno 6 cioccolatini ciascuno.		

PER FARE UNA PARTITA QUESTI TRE BAMBINI DEVONO DIVIDERSI LE FIGURINE IN PARTI UGUALI. DAI AD OGNI BAMBINO LO STESSO NUMERO DI FIGURINE E INCOLLALE SUL TAVOLO



RISPONDI:

1. LE FIGURINE DELLA PARTITA SONO IN TUTTO.....
2. I GIOCATORI SONO.....
3. OGNI BAMBINO HA DAVANTI A SE'.....FIGURINE
4. LE FIGURINE RIMASTE SONO.....

COMPLETA LA TABELLA:

Numero totale delle figurine	Numero di figurine per ogni bambino	Numero di bambini	Numero di figurine rimaste
.....

