

RICORDA!

In una giornata ci sono 24 ore,
da mezzanotte alla mezzanotte successiva.
In Italia siamo abituati a leggere le ore
da 0 a 24, perciò:


00:00	Mezzanotte	16 marzo 2020	
01:00	L'una di notte	16 marzo 2020	
02:00	Le 2 di notte.	16 marzo 2020	
03:00	Le 3 di notte.	16 marzo 2020	
04:00	Le 4 di notte.	16 marzo 2020	
05:00	Le 5 di notte.	16 marzo 2020	
06:00	Le 6 di mattina.	16 marzo 2020	
07:00	Le 7 di mattina.	16 marzo 2020	
08:00	Le 8 di mattina.	16 marzo 2020	
09:00	Le 9 di mattina.	16 marzo 2020	
10:00	Le 10 di mattina.	16 marzo 2020	
11:00	Le 11 di mattina.	16 marzo 2020	
12:00	Mezzogiorno	16 marzo 2020	
13:00	L'una del pomeriggio.	16 marzo 2020	
14:00	Le 2 del pomeriggio.	16 marzo 2020	
15:00	Le 3 del pomeriggio.	16 marzo 2020	
16:00	Le 4 del pomeriggio.	16 marzo 2020	
17:00	Le 5 del pomeriggio.	16 marzo 2020	
18:00	Le 6 del pomeriggio.	16 marzo 2020	
19:00	Le 7 di sera.	16 marzo 2020	
20:00	Le 8 di sera.	16 marzo 2020	
21:00	Le 9 di sera.	16 marzo 2020	
22:00	Le 10 di sera.	16 marzo 2020	
23:00	Le 11 di sera.	16 marzo 2020	
00:00	Mezzanotte del giorno dopo.	17marzo 2020	


Esercizi!


1. Completa la tabella contando le tacche dei minuti sul tuo orologio di carta.


Se la lancetta lunga è sul numero.... ↓												
ORE	1	2	3	4	5	6	7	8	9	10	11	12
MINUTI	5	10										
...i minuti sono... ↑												


2. Che ore sono? Parti dalla lancetta corta e segna le ore, poi osserva la lancetta lunga, ricordati della tabellina del 5 e scrivi i minuti.






















COMPLETA L'OROLOGIO

Disegna le lancette a seconda dell'orario indicato sotto ogni orologio.



15:00



2:00



8:30



18:30



11:30



6:15



9:45



22:15



17:15



20:00



16:30



7:00



5:45



1:30



12:15



9:00

La giornata di Marina

1 Osserva i disegni e riordina rinumerandole alcune attività della giornata di Marina.



2 Completa le frasi con l'ora esatta e metti le lancette agli orologi.

- Alla mattina Marina inizia la scuola alle e finisce alle 13.00.
- Al pomeriggio, verso le, fa i compiti. Di solito impiega due ore per finirli.
- Alla sera, verso le gioca in camera sua, fino a ora di cena, alle 19.00.

3 Colora la linea del tempo:

- Rosso il periodo in cui Marina è a scuola.
- Verde il periodo in cui fai i compiti.
- Blu il periodo in cui gioca in camera sua.

