

## PIANTE E MAPPE

Gustatevi queste immagini:

<https://youtu.be/iZBuB97nRcA>

Avete capito di quale meravigliosa città si tratta?

Si bravissimi, è proprio Bologna!

Secondo voi da quale **punto di vista** abbiamo potuto ammirarla?

Esatto!!! Abbiamo visto Bologna dall'alto.

Osserva ora quest' immagine, che chiameremo **immagine B**:



Riesci a riconoscere qualche monumento che hai ammirato nel video precedente?

Se guardi con attenzione sono sicura di sì!

Quest'immagine è come una fotografia di tutto quello che abbiamo visto nel video di prima.

Immagina di essere tu a bordo di una mongolfiera e ammirare direttamente coi tuoi occhi la città di Bologna.

Da bravo viaggiatore hai portato con te la tua macchina fotografica e cominci a scattare a più non posso.

Secondo te potresti scattare una foto come quella dell'immagine B?

Sarebbe un po' difficile riuscirci... perché secondo te?

- perché serve una macchina fotografica più potente
- perché è impossibile far stare in una foto tutto quello che ho visto

Benissimo!

Non è possibile riuscire a catturare uno spazio così grande in una sola foto.

E allora come abbiamo fatto ad ottenere l'immagine B?

L'immagine B è una fotografia un po' particolare... è una **PIANTA** o **MAPPA**.

La mappa o pianta è la rappresentazione di un territorio, di un ambiente, di un appartamento o anche di una stanza **visti dall'alto**.

Ogni elemento è rappresentato **rimpicciolito** e con dei **simboli**.

I simboli indicano gli elementi più importanti contenuti nella mappa e il loro significato è spiegato dalla **legenda**.


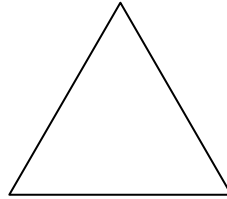

Lo studioso che si occupa di realizzare le mappe geografiche si chiama **CARTOGRAFO**.

Il prossimo anno anche noi diventeremo piccolo cartografi e impareremo a costruire mappe geografiche.


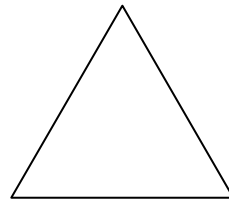


Per adesso ci esercitiamo su mappe già pronte!

## Comincia ad allenarti... osserva e rispondi oralmente


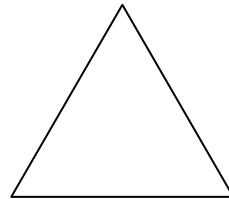

Di che forma è il pavimento dell'aula?




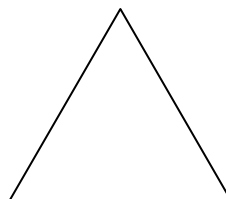

A quale forma corrisponde un albero se lo si osserva dall'alto?




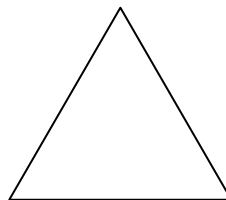


Ed il tetto di una casa?



A che figura assomiglia il ripiano del banco?



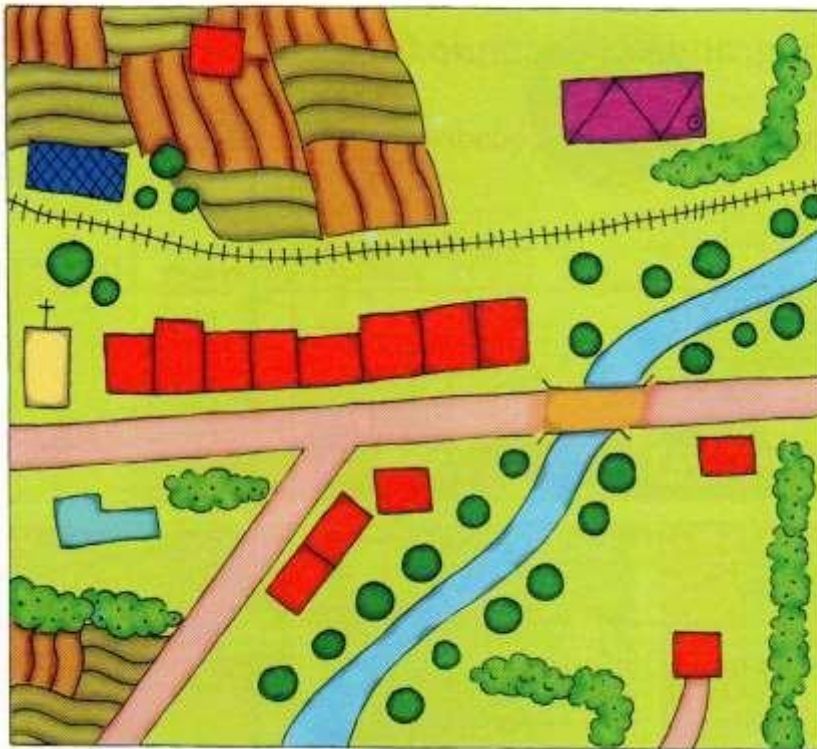
Ed il cestino?



Adesso tocca a te!

Osserva i **simboli** della **LEGENDA** a lato della pianta, ti permetteranno di capire come è organizzato questo spazio.

## La pianta di uno spazio



	STRADA
	PONTE
	FERROVIA
	STAZIONE
	CASE
	CHIESA
	SCUOLA
	ORTI
	ALBERI
	FABBRICA
	SIEPI
	FIUME

**Completa le frasi.**

**(esegui l'attività su un quaderno o un foglio, non è necessario stampare)**

Il fiume è sormontato da un .....

Lungo il fiume ci sono gli .....

Vicino alla strada asfaltata corre la .....

Al di là della ferrovia ci sono gli .....

La strada principale è fiancheggiata dalle .....

La fabbrica si trova vicino alle .....

La scuola è situata davanti alla .....

La chiesa si trova accanto alle .....

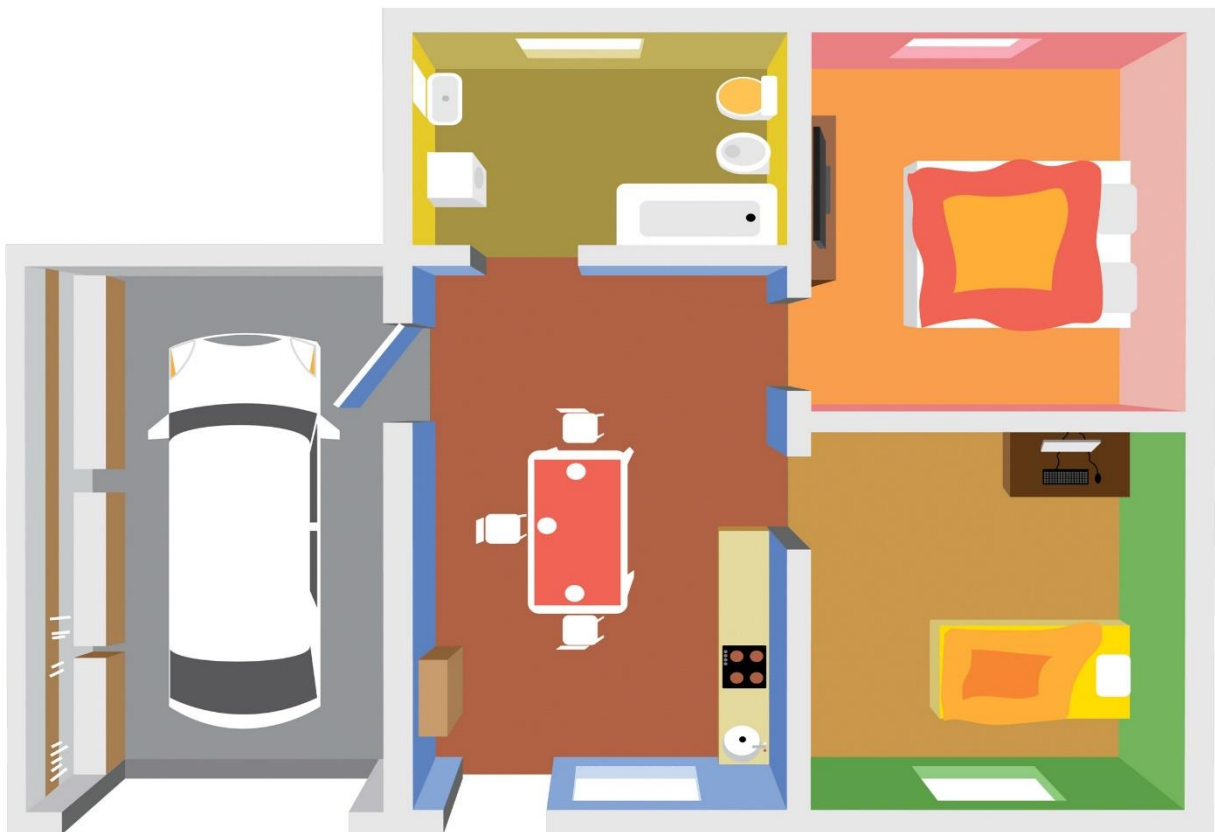
La stazione si trova oltre la .....

Anche qui non serve stampare.

Osserva e scrivi sul foglio/quaderno che hai a disposizione

## Mappe e carte geografiche

- Osserva la pianta di questa abitazione e scrivi nella tabella quali locali sono rappresentati e tutti gli oggetti che si trovano in ognuno di essi.



Locali	Oggetti

Adesso puoi divertirti facendo questi giochi:

<https://wordwall.net/it/resource/874277>

<https://wordwall.net/it/resource/891454>

<https://wordwall.net/it/resource/937691>