



CIAO BAMBINI!

OGGI CONOSCIAMO UN NUOVO NUMERO, IL NUMERO

20!

**LA NOSTRA LINEA DEI NUMERI DIVENTA SEMPRE PIÙ
LUNGA...**


**PRIMA DI SVOLGERE GLI ESERCIZI, SE NON LO AVETE
GIÀ FATTO, GUARDATE LA VIDEOLEZIONE PREPARATA
DALLE MAESTRE:**

**[https://drive.google.com/file/d/1DDKu0Jv3-
izgZbdDtrRVZS36o3RAGMDb/view?usp=sharing](https://drive.google.com/file/d/1DDKu0Jv3-izgZbdDtrRVZS36o3RAGMDb/view?usp=sharing)**

**RICORDATE DI NON STAMPARE NULLA, MA DI
RICOPIARE SUL QUADERNO GLI ESERCIZI E
COMPLETARLI.**


BUON LAVORO!

IL NUMERO VENTI

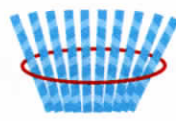
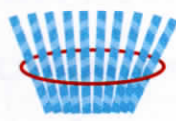


10

+

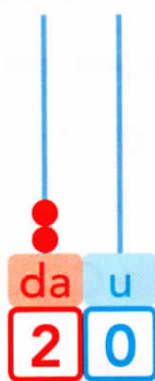


10



=

20 VENTI



IL NUMERO **20** È FORMATO DA **2** DECINE

● CONTA CON GLI OCCHI.




10 u → 1 da



10 u → 1 da

20 u = 2 da

● COLLEGA LE CANNUCCE ALLE CARTE CON LO STESSO NUMERO.



VENTI

1 da



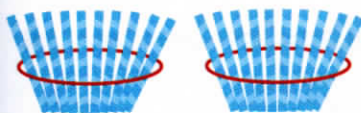
CINQUE

5 u



DIECI

2 da

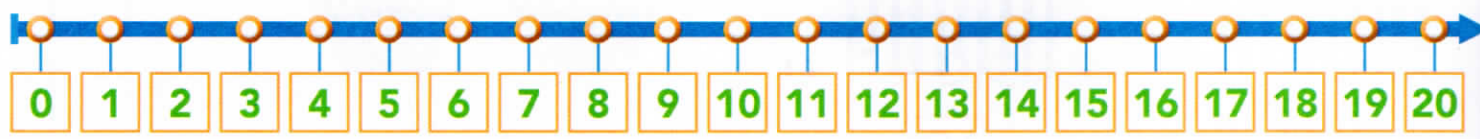


TREDICI

1 da + 3 u

LA LINEA SI ALLUNGA

● LEGGI VELOCEMENTE I NUMERI NEI CARTELLINI.

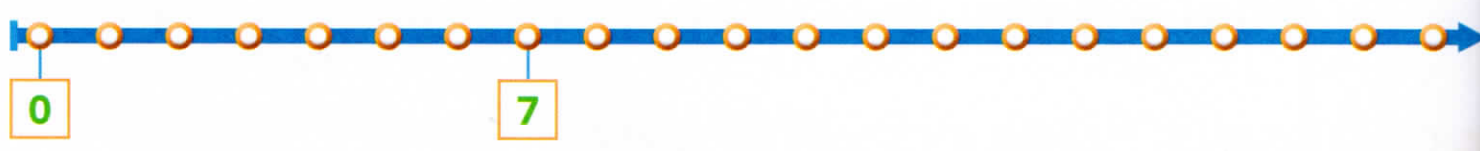


● COLORA I NUMERI SULLA LINEA, COME INDICATO.

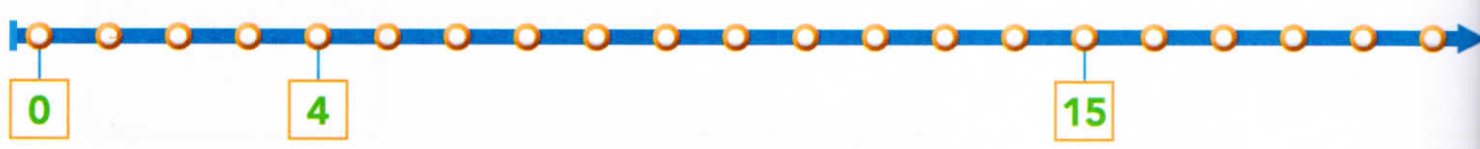
 1 da + 3 u	 8 u	 1 da + 8 u	 2 da
 1 da + 5 u	 1 da	 7 u	 2 u

● SCOPRI E SCRIVI SULLA LINEA I NUMERI NASCOSTI.

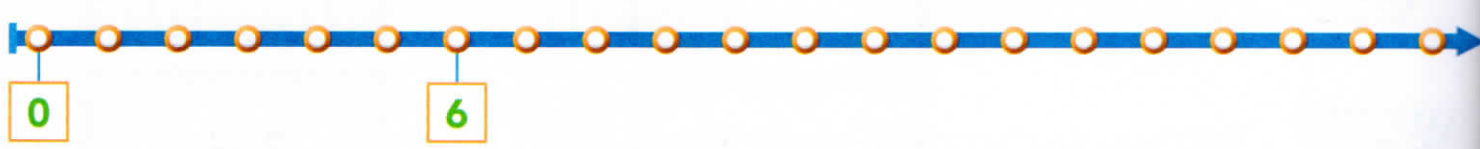
DOV'È **13**?



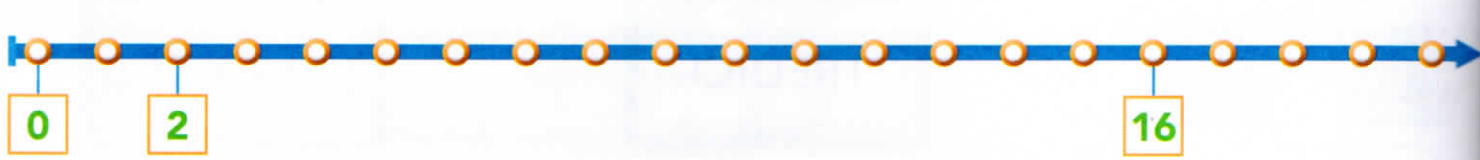
DOV'È **9**?



DOV'È **14**?



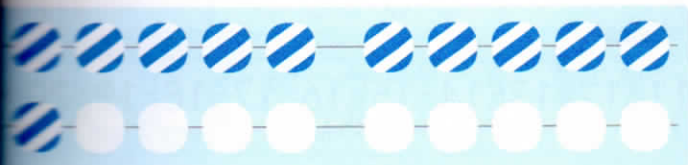
DOV'È **10**?



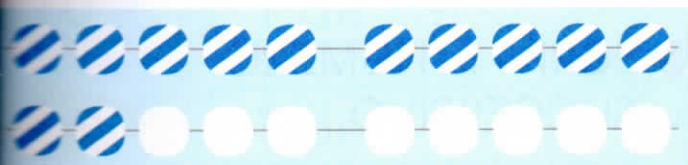
I NUMERI AMICI DEL 20




CONTA CON GLI OCCHI E COMPLETA.



$11 \text{ E } \square$



$12 \text{ E } \square$




$13 \text{ E } \square$

CONTINUA SUL QUADERNO E SCOPRI GLI ALTRI AMICI DEL 20.


A CHE PUNTO SIAMO?



E SE GLI AMICI DEL 20 FOSSERO TRE? COLORA I TONDI DI TRE COLORI DIVERSI. INIZIA QUI E CONTINUA SUL QUADERNO. POI CONFRONTATI CON I TUOI COMPAGNI E LE TUE COMPAGNE. CHI HA TROVATO PIÙ AMICI?



$10 + 4 + 6 = 20$



$5 + 5 + 10 = 20$

UN PO' DI ORDINE

● MUOVI IL FERMAGLIO E GIOCA CON LA LINEA DEI NUMERI.



● SCRIVI IL NUMERO PRECEDENTE.

<input type="text"/>	15	<input type="text"/>	11	<input type="text"/>	7
<input type="text"/>	19	<input type="text"/>	14	<input type="text"/>	18
<input type="text"/>	10	<input type="text"/>	12	<input type="text"/>	16

● SCRIVI IL NUMERO SUCCESSIVO.

13	<input type="text"/>	9	<input type="text"/>	8	<input type="text"/>
17	<input type="text"/>	15	<input type="text"/>	16	<input type="text"/>
19	<input type="text"/>	6	<input type="text"/>	14	<input type="text"/>

● CONFRONTA I NUMERI E SCRIVI $>$, $<$ OPPURE $=$.

18	<input type="text"/>	20	11	<input type="text"/>	15	12	<input type="text"/>	9	16	<input type="text"/>	16
1	<input type="text"/>	9	20	<input type="text"/>	20	14	<input type="text"/>	15	13	<input type="text"/>	11