

LogicaMente

(non stampare, lavora sul quaderno)

1) Disegna 20 palline e poi:

- colora 4 palline di verde
- colora di arancione 2 palline in più di quelle verdi
- col giallo colora 3 palline in meno di quelle arancioni
- colora di blu 2 palline in più di quelle gialle
- colora le restanti palline di rosso

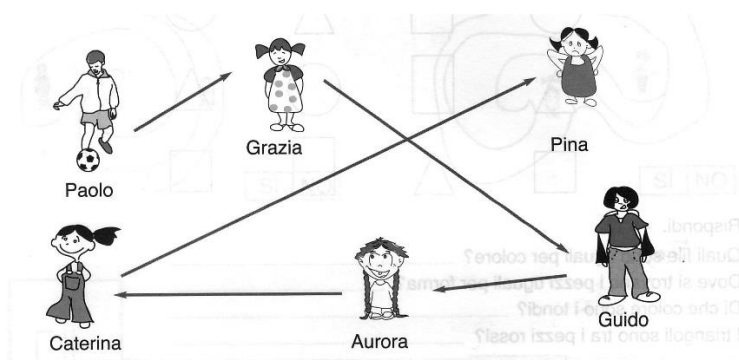
2) Scopri quale numero ha pensato ciascun bambino

(sul quaderno riporta nome del bambino e numero pensato)

- Tania = il mio numero è più grande di 5 rispetto a 8
- Giulia = il mio numero è più piccolo di 7 rispetto al numero di Tania
- Anna = il numero di Giulia è più piccolo di 11 rispetto al mio
- Boris = il mio numero è più grande di 4 rispetto al numero di Anna
- Luigi = Il mio numero è più piccolo di 9 rispetto al numero di Boris
- Fabiano = Se al numero di Luigi aggiungo 7 ottengo il mio numero

3) Osserva le indicazioni della freccia e scopri chi ha lanciato la palla

(sul quaderno riporta solo i nomi dei bambini e turno di lancio)



Ha lanciato per primo

Per terzo

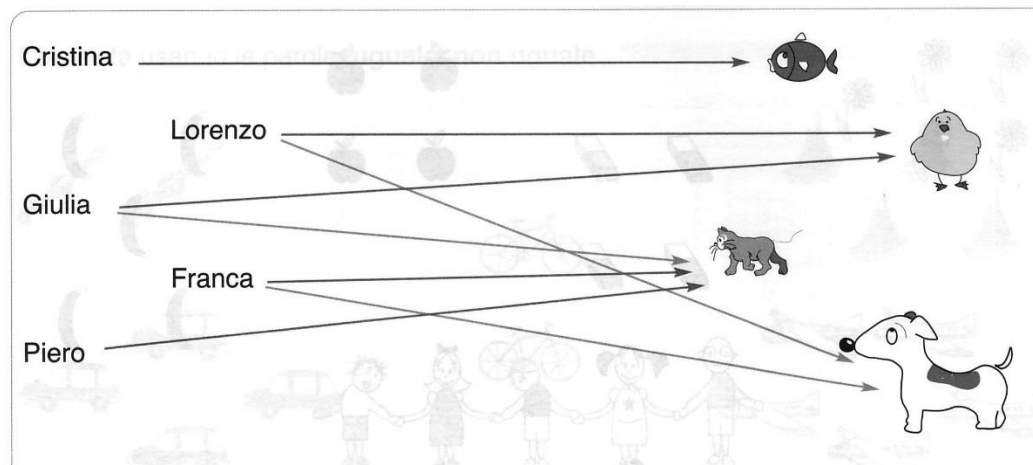
Per ultimo

Per secondo

Non ha mai lanciato la palla.....

4) Osserva le indicazioni delle frecce e scopri quali animali possiede ciascun bambino

(sul quaderno riporta solo i nomi dei bambini e gli animali posseduti)



Cristina=

Lorenzo =

Giulia =

Franca =

Piero =


Chi possiede più di un animale?

Chi ha un solo animale?

5) Disegna:

- 6 ombrelli **non** chiusi
- 5 animali **non** gatti
- 3 quadrati gialli **e** 3 rossi
- 3 triangoli verdi **o** blu
- 7 palle di cui 2 **non** rigate
- 8 cassette di cui 3 senza finestre **e** senza porte
- 4 alberi di cui 2 senza frutti **o** senza foglie

6) Osserva questo disegno e scrivi 10 proposte vere o false seguendo l'esempio (non stampare, scrivi sul quaderno)



VERO - Nel disegno si vede una tenda.

FALSO - Nel disegno si vede una casa.

VERO - _____

FALSO - _____

VERO - _____

FALSO - _____

VERO - _____

FALSO - _____

VERO - _____

FALSO - _____

FALSO - _____

7) Leggi le seguenti indicazioni e realizza il disegno richiesto

(fai attenzione perché alcune richieste sono vere e altre false)

Nel disegno si vede il mare **(vero)**

Nel disegno si vedono 3 case **(falso)**

Nel disegno si vede una barca **(vero)**

Nel disegno si vedono 2 alberi **(falso)**

Nel disegno non si vede un cavallo **(vero)**

Nel disegno si vedono 4 ombrelloni **(vero)**

Nel disegno non si vede il sole **(falso)**

Nel disegno si vede il bagnino **(falso)**

Nel disegno si vedono delle rondini **(vero)**

Nel disegno non si vedono persone **(falso)**