

LA SOTTRAZIONE

"MAESTRA HO PERSO UNA MATITA!" ... "MAESTRA NON TROVO PIÙ ALCUNE DELLE
MIE FIGURINE PREFERITE ..."

QUANTE VOLTE PRONUNCIAMO QUESTE FRASI BAMBINI? TANTE! E DOPO? DOPO SI
CONTANO LE MATITE O LE FIGURINE RIMASTE!

SENZA SAPERLO OGNUNO DI NOI ESEGUE COSÌ DELLE SOTTRAZIONI!
ADESSO SIAMO PRONTI PER CONOSCERE PIÙ DA VICINO QUESTO STRANO SEGNO:

- (MENO)!

PRIMA DI PARTIRE CON GLI ESERCIZI DATE UN'OCCHIATA ALLE DUE LEZIONI CHE
ABBIAMO PREPARATO PER VOI!

<https://www.powtoon.com/c/d58RyFj4zig/1/m>

<https://youtu.be/zXs-o5pZeBU>

**RICORDATE: NON OCCORRE STAMPARE! RIPORTATE SUI VOSTRI QUADERNI LE
ATTIVITA' E DIVERTITEVI A RAPPRESENTARE LE QUANTITA'!**

BUON LAVORO A TUTTI!



QUANTI NE RESTANO?

LUCA GIOCA CON I SUOI AMICI A FAR SCOPPIARE I PALLONCINI...

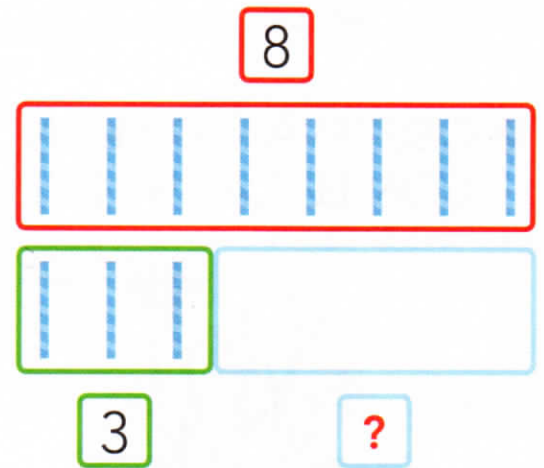


● QUANTI PALLONCINI SONO RIMASTI? CONTA E COMPLETA.

PALLONCINI GONFIATI

PALLONCINI SCOPPIATI

PALLONCINI RIMASTI



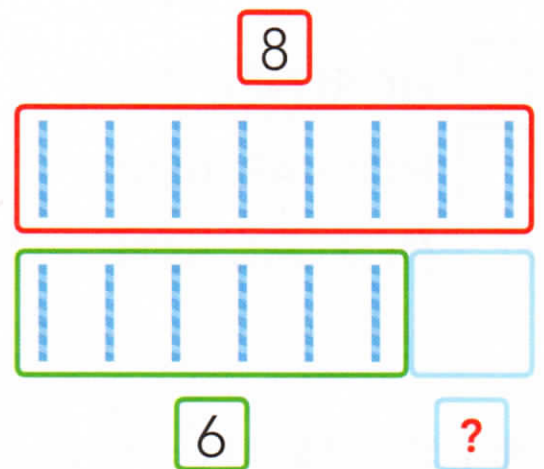
● ORA PROVA TU. FAI SCOPPIARE CON UNA ✕ 6 PALLONCINI. CONTA E COMPLETA.



PALLONCINI GONFIATI

PALLONCINI SCOPPIATI

PALLONCINI RIMASTI



SCOPRI LA SOTTRAZIONE

PER **TOGLIERE** I PALLONCINI SCOPPIATI, HAI USATO UN'OPERAZIONE: LA **SOTTRAZIONE**.

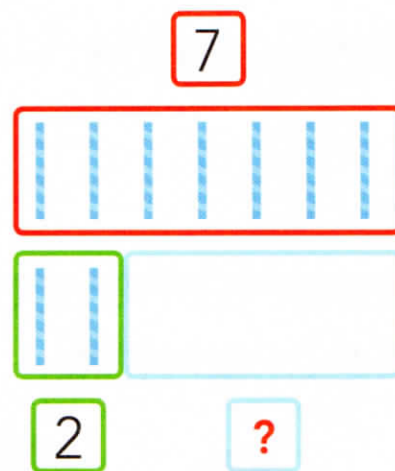
LA **SOTTRAZIONE** È UN'OPERAZIONE CHE **TOGLIE**, **ELIMINA** UNA QUANTITÀ DA UN'ALTRA. IL SUO SEGNO È **-** CHE SI LEGGE **MENO**.

$$8 - 3 = 5$$

- OSSERVA IL DISEGNO E USA LA SOTTRAZIONE. AIUTATI CON LE CANNUCCE E CALCOLA.



CON LE CANNUCCE



- FIORI NEL VASO
- FIORI APPASSITI
- FIORI RIMASTI

CON I NUMERI

$$\square - \square = \square$$

- LAVORA IN COPPIA: INVENTA UNA SITUAZIONE CON LA SOTTRAZIONE E CALCOLA CON LE CANNUCCE E CON I NUMERI.



LA DIFFERENZA

PUOI USARE LA SOTTRAZIONE ANCHE PER CALCOLARE LA **DIFFERENZA**.

- OSSERVA I DISEGNI E COMPLETA.
LUCA HA **9** FIGURINE.
CIRO HA **4** FIGURINE.



DIFFERENZA

$$9 - \square = \square$$

LUCA HA FIGURINE IN PIÙ.

CIRO HA FIGURINE IN MENO.

CON LE CANNUCCE

- ORA PROVA TU. OSSERVA IL DISEGNO, CALCOLA E COMPLETA.

DIFFERENZA

$$\square - \square = \square$$

QUANTE AUTO ROSSE IN PIÙ?

QUANTE AUTO BLU IN MENO?

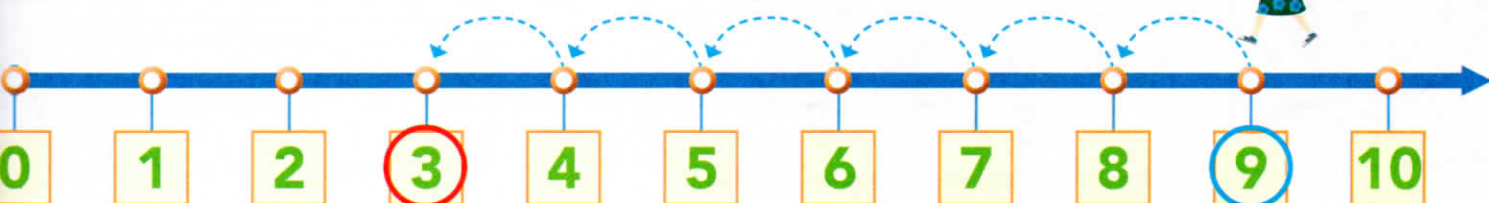
CON LE CANNUCCE

SOTTRAZIONI SULLA LINEA

SOFIA E LE SUE AMICHE FANNO SOTTRAZIONI SALTANDO SULLA LINEA DEI NUMERI.



● SOFIA È SUL 9 E FA 6 SALTI INDIETRO. DOVE ARRIVA? OSSERVA E COMPLETA.



$$9 - 6 = \square$$

● ORA GIOCA TU! DISEGNA I SALTII SULLA LINEA, SCOPRI DOVE ARRIVI E COMPLETA.

$$10 - 6 = \dots\dots\dots$$



$$6 - 3 = \dots\dots\dots$$




$$9 - 4 = \dots\dots\dots$$



QUANTI RESTANO?

● OSSERVA I DISEGNI, CALCOLA E COMPLETA.



- AL PARCO CI SONO **6** BAMBINI.
- SALUTANO E VANNO VIA BAMBINI.
- AL PARCO RESTANO BAMBINI.

$$\boxed{6} - \boxed{} = \boxed{}$$



- NEL VASSOIO CI SONO **6** PIZZETTE.
- LUCA E GIOIA MANGIANO PIZZETTE.
- NEL VASSOIO RESTANO PIZZETTE.

$$\boxed{} - \boxed{} = \boxed{}$$