

PROBLEMI PER IMMAGINI

Osserva con attenzione ogni vignetta e scopri l'operazione necessaria per rispondere alla domanda
Sul quaderno scrivi solo il numero del problema e l'operazione corrispondente

PROBLEMA 1



Italo e Liviana hanno deciso di raggiungere la cima di quella montagna.




L'arrampicata è lunga e faticosa. Per fortuna si sono portati 6 chilometri di fune ciascuno.



Eccoli! Alla fine ce l'hanno fatta, sono stanchi, ma felici.

1. Quanti chilometri di fune hanno portato in tutto Italo e Lavinia?


PROBLEMA 2



È il momento degli allenamenti del ninja e Marcello osserva curioso.




Il ninja con un balzo sguaina la sua sciabola e si lancia contro le tre mele.



Con un solo colpo di spada il ninja taglia in 2 le mele lasciando Marcello senza parole.

2. Quanti sono i pezzi di mela tagliati dal ninja?

PROBLEMA 3



Domenico si sveglia nel cuore della notte e si accorge che dal soffitto cadono gocce d'acqua.




Trova un trucco per continuare a riposare, ma ogni 2 ore deve sostituire il bicchiere pieno con un altro vuoto.



La mattina seguente Domenico non è molto riposato e sul suo comodino ci sono 4 bicchieri pieni d'acqua.

3. Quante ore ha dormito in tutto Domenico?


PROBLEMA 4



Fausto prima di chiudere la sua officina deve montare 12 pneumatici.



Si mette subito al lavoro perché a ogni macchina che arriva ne deve mettere 4.



Finalmente sta montando l'ultimo pneumatico e poi potrà tornare a casa.

4. A quante auto Fausto ha sostituito i pneumatici?


PROBLEMA 5



Come ogni giovedì Amedeo va in piscina.



Deve sbrigarsi però perché gli altri sono già tutti in acqua.




Ci sono 12 ciabatte a bordo vasca, oggi non manca proprio nessuno.

5. Quanti bambini sono già entrati in acqua?

PROBLEMA 6



Alla gara di ballo di strada 4 amici devono esibirsi con salti, piroette e acrobazie.




La musica in tutto dura 16 minuti e ogni membro della squadra ha a disposizione solo pochi minuti per esibirsi.



A turno ballano tutti finché non cessa la musica.

6. Quanti minuti di tempo ha a disposizione ognuno dei 4 amici?

PROBLEMA 7



Berta è passata dal fioraio e ha acquistato 9 fiori freschi.



Arrivata a casa riempie d'acqua i suoi 3 bellissimi vasi nuovi.



Mette in ognuno di questi lo stesso numero di fiori e li posiziona sopra i mobili del soggiorno.

7. Quanti fiori ha messo Berta in ogni vaso?

PROBLEMA 8



Silvio taglia un albero ormai secco.



Riesce a ricavarne un tronco del peso di 27 chili che vende al mobilificio.



Il mobilificio riesce a ricavarne 3 graziosi comodini usando tutto il legno acquistato.

8. Quanti chili peserà ogni comodino?