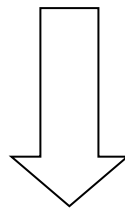


# CALCOLI IN TABELLA

**CIAO BIMBI!**

**AVETE GIÀ SEGUITO LA VIDEOLEZIONE DELLE  
MAESTRE?**

**SE NON LO AVETE ANCORA FATTO, POTETE  
CLICCARE IL LINK IN BASSO**



**<https://youtu.be/rzT4ey3CeIU>**

**ADESSO SIETE PRONTI PER ESEGUIRE TUTTE LE**

**OPERAZIONI IN TABELLA!**

***RICORDATE DI NON STAMPARE NULLA, MA DI  
DISEGNARE LE TABELLE SUL VOSTRO QUADERNO  
SEGUENDO I QUADRETTI...***

**BUON LAVORO A TUTTI!**

# ADDIZIONI IN VELOCITÀ

PER CALCOLARE VELOCEMENTE, ANCHE IN TABELLA, SEGUI IL CONSIGLIO DI MATILDE.

● ORA PROVA TU.



TIENI A MENTE IL NUMERO PIÙ GRANDE E AGGIUNGI QUELLO PIÙ PICCOLO. AIUTATI CON LE DITA, SE VUOI.

|                     |   |   |   |
|---------------------|---|---|---|
| $\curvearrowright+$ | 3 | 1 | 4 |
| 10                  |   |   |   |
| 15                  |   |   |   |
| 12                  |   |   |   |

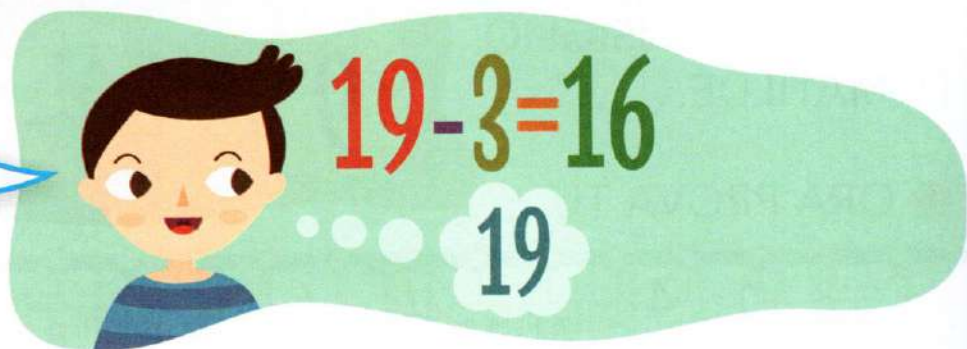
|                     |   |   |   |
|---------------------|---|---|---|
| $\curvearrowright+$ | 6 | 1 | 5 |
| 11                  |   |   |   |
| 13                  |   |   |   |
| 9                   |   |   |   |

|                     |   |   |   |
|---------------------|---|---|---|
| $\curvearrowright+$ | 4 | 3 | 2 |
| 8                   |   |   |   |
| 14                  |   |   |   |
| 17                  |   |   |   |


# SOTTRAZIONI IN VELOCITÀ


PER CALCOLARE VELOCEMENTE, ANCHE IN TABELLA, SEGUI IL CONSIGLIO DI LUCA.

TIENI A MENTE IL PRIMO NUMERO. CONTA ALL'INDIETRO E TOGLI IL SECONDO NUMERO. AIUTATI CON LE DITA, SE VUOI.



ORA PROVA TU.

|  |  |  |  |
|--|--|--|--|
|  2 4 3 |  |  |  |
| 14   |  |  |  |
| 10   |  |  |  |
| 15   |  |  |  |

|   |  |  |  |
|---|--|--|--|
|  5 1 6 |  |  |  |
| 20  |  |  |  |
| 16  |  |  |  |
| 13  |  |  |  |

|   |  |  |  |
|---|--|--|--|
|  2 7 3 |  |  |  |
| 11  |  |  |  |
| 20  |  |  |  |
| 18  |  |  |  |

● COMPLETA LE TABELLE.

| $+$ | 2 | 4 | 5 |
|-----|---|---|---|
| 10  |   |   |   |
| 2   |   |   |   |
| 3   |   |   |   |

| $+$ | 6 | 10 | 3 |
|-----|---|----|---|
| 4   |   |    |   |
| 5   |   |    |   |
| 6   |   |    |   |

| $-$ | 0 | 1 | 2 |
|-----|---|---|---|
| 19  |   |   |   |
| 18  |   |   |   |
| 17  |   |   |   |

| $-$ | 3 | 4 | 5 |
|-----|---|---|---|
| 10  |   |   |   |
| 9   |   |   |   |
| 8   |   |   |   |

| $+$ | 3 | 4 | 5 |
|-----|---|---|---|
| 10  |   |   |   |
| 11  |   |   |   |
| 12  |   |   |   |

| $-$ | 4 | 5 | 6 |
|-----|---|---|---|
| 16  |   |   |   |
| 17  |   |   |   |
| 18  |   |   |   |