












CIAO BIMBI!!!

Ascoltate la video lezione, completate la tabella ed eseguite gli esercizi.

<https://www.youtube.com/watch?v=QJB-4FTUr60>

multipli				unità	sottomultipli	
						
€ 2,00	€ 5,00	€	€	€ 1,00	€ 0,01	€ 0,02
						
€	€	€	€		€	€
						
					€	€

PROBLEMI CON L'EURO

1. Se una busta di figurine costa € 1,50, **quanto spenderà Marco per acquistarne 18?**
2. Giulio si reca al supermercato e compra 6 bottiglie di acqua al prezzo di € 0,25 ciascuna, un flacone di bagnoschiuma a € 2,70 ed una confezione di bastoncini di merluzzo a € 5,40.

Quanto spende in tutto?

3. Matteo acquista 5 magliette al prezzo di € 22 ciascuna ed un jeans da € 49. **Quanto spende in tutto?**

EURO

Collega le monete nelle caselle a sinistra con la moneta di uguale valore a destra.

