


ESEGUI SUL QUADERNO.

OPERAZIONI IN CODICE ...


Quanto può valere la fragola? E la mela? Copia sul quaderno un'operazione in codice alla volta, trova tutte le possibilità e scriville.

Attenzione!! Ogni operazione con i simboli può essere sostituita da più operazioni con i numeri.


Ogni frutto ha sempre lo stesso valore, ma solo nella stessa operazione.



Copia sul quaderno le operazioni con i simboli e solo le operazioni con i numeri a cui possono corrispondere.



$\begin{array}{r} 5 \ 5 - \\ 3 \ 3 = \\ \hline 2 \ 2 \end{array}$	$\begin{array}{r} 6 \ 7 - \\ 3 \ 3 = \\ \hline 3 \ 4 \end{array}$	$\begin{array}{r} 5 \ 5 - \\ 3 \ 3 = \\ \hline 2 \ 2 \end{array}$	$\begin{array}{r} 5 \ 5 - \\ 3 \ 3 = \\ \hline 3 \ 3 \end{array}$	$\begin{array}{r} 5 \ 5 - \\ 3 \ 3 = \\ \hline 2 \ 2 \end{array}$
---	---	---	---	---



$\begin{array}{r} 36+ \\ \underline{36=} \\ 72 \end{array}$	$\begin{array}{r} 24+ \\ \underline{24=} \\ 48 \end{array}$	$\begin{array}{r} 21+ \\ \underline{21=} \\ 42 \end{array}$	$\begin{array}{r} 12+ \\ \underline{12=} \\ 24 \end{array}$	$\begin{array}{r} 31+ \\ \underline{21=} \\ 52 \end{array}$
---	---	---	---	---

... E NON

Calcola in colonna.

$$57 + 28 =$$

$$39 + 55 =$$

$$46 + 240 =$$

$$92 - 54 =$$

$$73 - 29 =$$

$$85 - 46 =$$

$$13 \times 7 =$$

$$24 \times 3 =$$

$$18 \times 5 =$$

Calcola in riga.

$$27 : 9 =$$

$$36 : 4 =$$

$$42 : 7 =$$

$$54 : 6 =$$

$$72 : 8 =$$

$$28 : 7 =$$

$$18 : 2 =$$

$$35 : 5 =$$

$$64 : 8 =$$

$$30 : 10 =$$