

PROBLEMI

CIAO BAMBINI!!!

CERTO....ANCORA PROBLEMI!!!



QUANDO AGGIUNGI O UNISCI LE QUANTITA', LE METTI INSIEME.....

CI VUOLE UN'ADDIZIONE!!!




QUANDO TOGLI O DEVI TROVARE LA DIFFERENZA TRA QUANTITA'....

CI VUOLE UNA SOTTRAZIONE!!!



ADESSO CONCENTRATEVI.....E ALL'OPERA!!!




COMPLETA OGNI PROBLEMA CON LE PARTI MANCANTI

CON LE PAROLE

CON IL DISEGNO

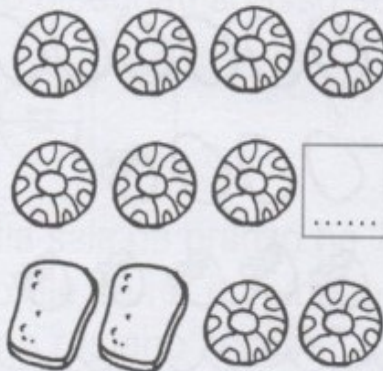
CON I NUMERI

NONNO GINO HA IN TASCA
7 CAMELLE
ALLA MENTA
E 4 AL LIMONE.
QUANTE CAMELLE
IN TUTTO?



$$\boxed{7} + \boxed{4} = \boxed{\dots\dots}$$

GIULIA FA COLAZIONE
CON 9 BISCOTTI
E 2 FETTE BISCOTTATE.
QUANTO IN TUTTO?




$$\boxed{\dots\dots} + \boxed{\dots\dots} = \boxed{\dots\dots}$$

SUL VASSOIO CI SONO
8 BICCHIERI E
6 BOTTIGLIE.
QUANTI OGGETTI
IN TUTTO?

$$\boxed{8} + \boxed{6} = \boxed{\dots\dots}$$

SUL BANCO DEL
PASTICCERE C'ERANO
14 DOLCETTI TONDI.
ORA NE SONO RIMASTI 5.
QUANTI SONO STATI
VENDUTI?

$$\boxed{14} - \boxed{5} = \boxed{\dots\dots}$$

 **OSSERVA LE IMMAGINI, LEGGI IL TESTO E RISOLVI.**


1. NELLA FATTORIA CI SONO 12 CAVALLI.
8 SONO GIÀ ENTRATI NEL RECINTO.
- QUANTI CAVALLI DEVONO ANCORA ENTRARE NEL RECINTO?

USA I NUMERI

$$\square \dots \square = \square$$

RISPONDI

- DEVONO ANCORA ENTRARE CAVALLI.



2. NONNA BICE È ENTRATA NEL POLLAIO PER PRENDERE LE UOVA.
METTE NEL CESTO 20 UOVA.
SI ACCORGE CHE 4 SONO ROTTE.

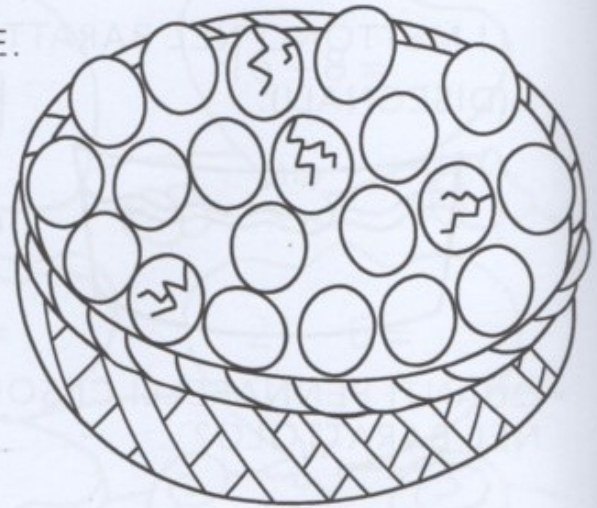
- QUANTE UOVA SONO INTERE?


USA I NUMERI

$$\square \dots \square = \square$$

RISPONDI

- LE UOVA INTERE SONO



 **LEGGI, COMPLETA E DISEGNA.**

1. LUCA HA FIGURINE, ELISA HA FIGURINE.
LE ATTACCANO SULL'ALBUM NUOVO (DISEGNALE).



- QUANTE FIGURINE CI SONO SULL'ALBUM?


..... =

RISPOSTA

- SULL'ALBUM CI SONO FIGURINE.



2. ANDREA HA PENNARELLI,
ELEONORA HA PENNARELLI.
LI METTONO NEL BARATTOLO
(DISEGNALI).



- QUANTI PENNARELLI CI SONO
NEL BARATTOLO?

..... =

RISPOSTA

- NEL BARATTOLO CI SONO PENNARELLI.

