

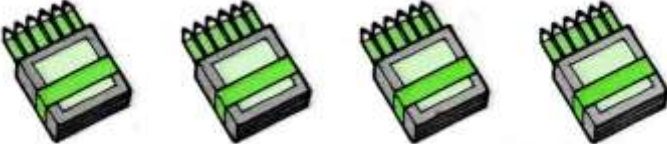


## PROBLEMI VELOCI

**Scrivi l'operazione. (Esegui sul quaderno)**

<p>1. Sul tavolo ci sono 10 albicocche e 12 fragole. Quanti frutti in tutto? .....</p>	<p>2. Su uno scaffale ci sono 7 barattoli di miele e 9 di marmellata? Quanti barattoli di marmellata ci sono in più? .....</p>
<p>3. Voglio mettere 10 bulbi di tulipani in 2 vasi. Quanti bulbi in ogni vaso? .....</p>	<p>4. In un vaso ci sono 6 fiori. Ogni fiore ha 5 petali. Quanti petali in tutto? .....</p>
<p>5. In un bar devono preparare 12 caffè. Ne hanno già preparati 3. Quanti caffè devono ancora preparare? .....</p>	<p>6. Nella fruttiera conto 24 acini. In ogni grappolo ce ne sono 8. Quanti sono i grappoli? .....</p>

**Scrivi dati e operazioni. (Esegui sul quaderno senza rifare i disegni)**

	
<p>..... n. candeline su ogni torta .....n. torte Quante candeline in tutto? Operazione: .....</p>	<p>..... n. candeline in tutto .....n. torte Quante candeline su ogni torta? Operazione: .....</p>
	
<p>..... n. mele in tutto .....n. cestini Quante mele in ogni cestino? Operazione: .....</p>	<p>..... n. mele in ogni cestino .....n. cestini Quante mele in tutto? Operazione: .....</p>
	
<p>..... n. colori in ogni scatola .....n. scatole Quante colori in tutto? Operazione: .....</p>	<p>..... n. colori in tutto .....n. scatole Quante colori in ogni scatola? Operazione: .....</p>