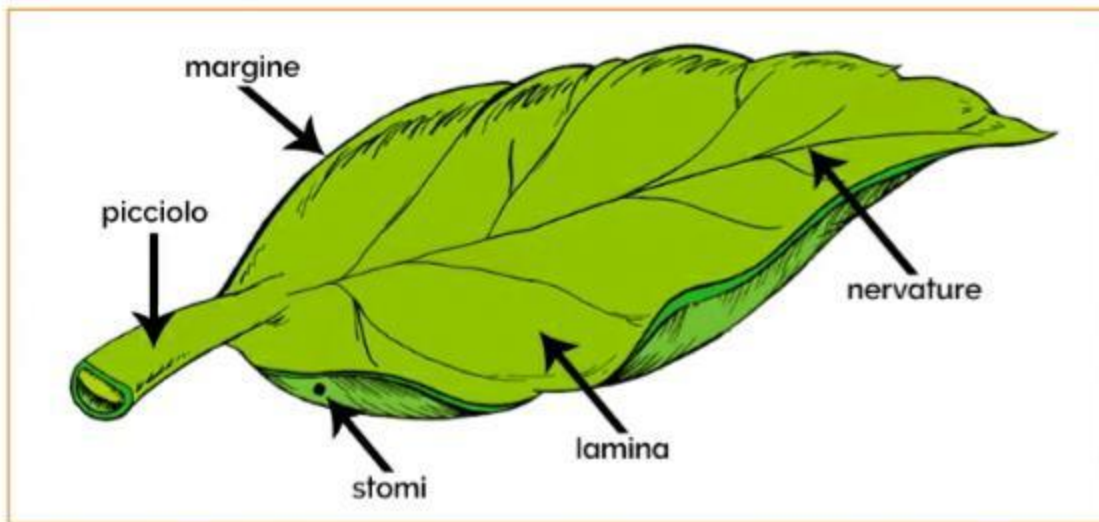


## La foglia e le sue parti

La **foglia** è l'organo con il quale la pianta compie le più importanti funzioni vitali. La foglia di solito ha una forma piatta e sottile. La parte della foglia rivolta sempre verso il sole è detta **pagina superiore** mentre il lato opposto si chiama **pagina inferiore**.

Quelle che seguono sono **le parti più importanti di una foglia**:



- la **lamina**, detta anche lembo, è la parte piatta della foglia;
- il **picciolo** è il gambo e il sostegno della foglia e congiunge la lamina ai rami o al fusto;
- il **margine** è il bordo della foglia che può essere di tipo diverso ed infatti viene utilizzato per la classificazione delle foglie;
- le **nervature** piccoli vasi che si diramano in tutte le parti della foglia per il trasporto di acqua, sali minerali.
- gli **stomi**, presenti soprattutto sulla inferiore della foglia, sono aperture microscopiche per l'entrata e l'uscita dell'aria.

## La foglia e le sue parti

Indica se ogni affermazione è vera o falsa.

- Le piante respirano attraverso gli stomi. V F
- La lamina è la parte che collega la foglia al fusto. V F
- Il margine delle foglie ha sempre la stessa forma. V F
- Nelle nervature delle foglie scorrono le sostanze nutritive. V F
- Il picciolo si trova nella pagina inferiore della foglia. V F
- Gli stomi sono presenti soprattutto nella pagina superiore della foglia. V F
- La foglia è un organo poco importante per la pianta. V F
- In autunno alcune piante lasciano cadere le foglie per proteggersi dal freddo. V F

## La foglia e le sue parti

- Collega il nome delle parti della foglia alla loro giusta definizione.

LAMINA

Piccolissime aperture presenti soprattutto sulla pagina inferiore della foglia.

PICCIOLO

Bordo della foglia che può essere di diverso tipo.

MARGINE

Vasi che dal picciolo si diramano in tutta la foglia per il trasporto di sostanze.

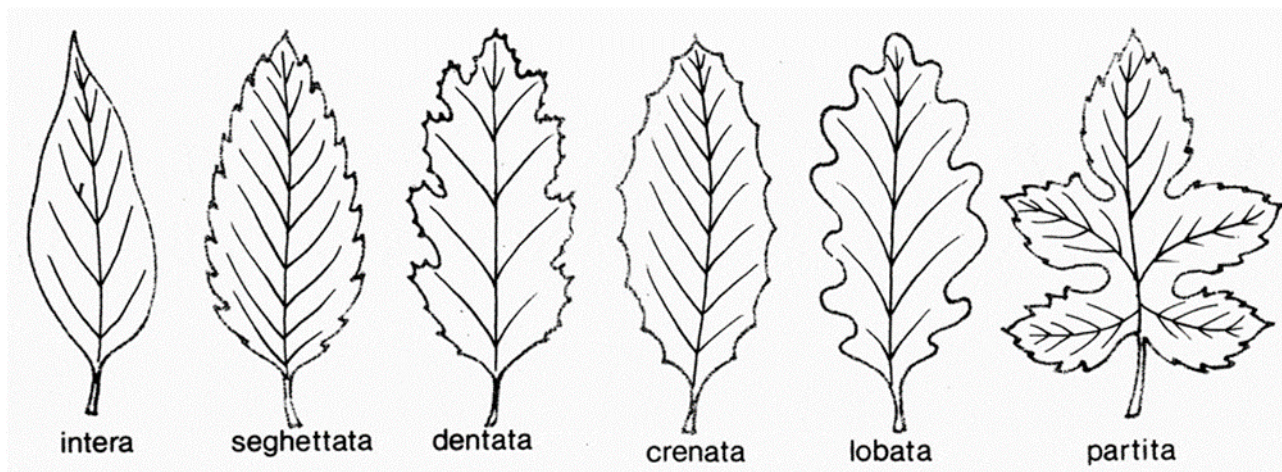
NERVATURE

Parte piatta della foglia, a volte chiamata anche lembo.

STOMI

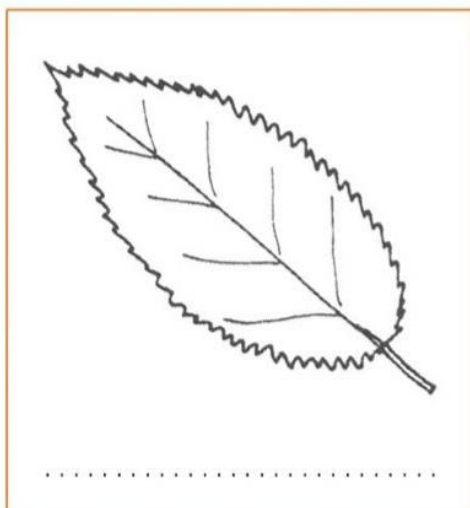

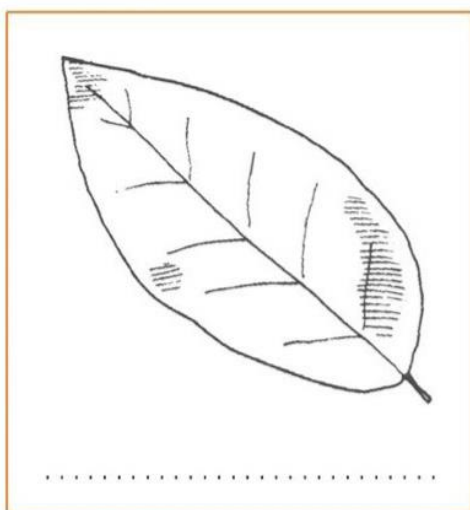
Congiunzione tra la lamina ed il resto della pianta.


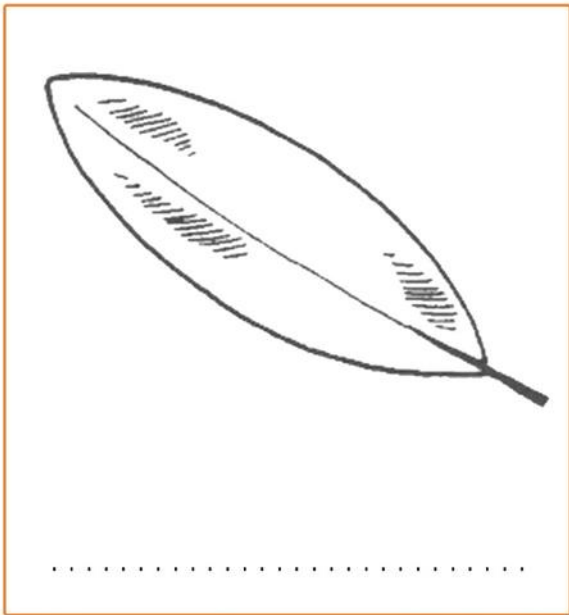
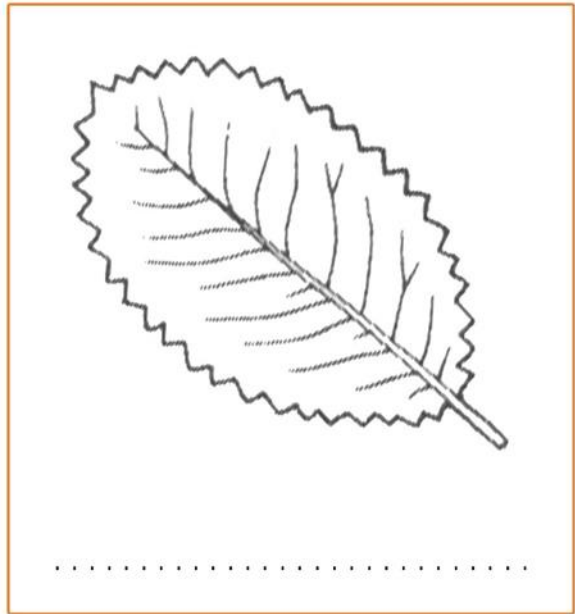

## Il margine delle foglie



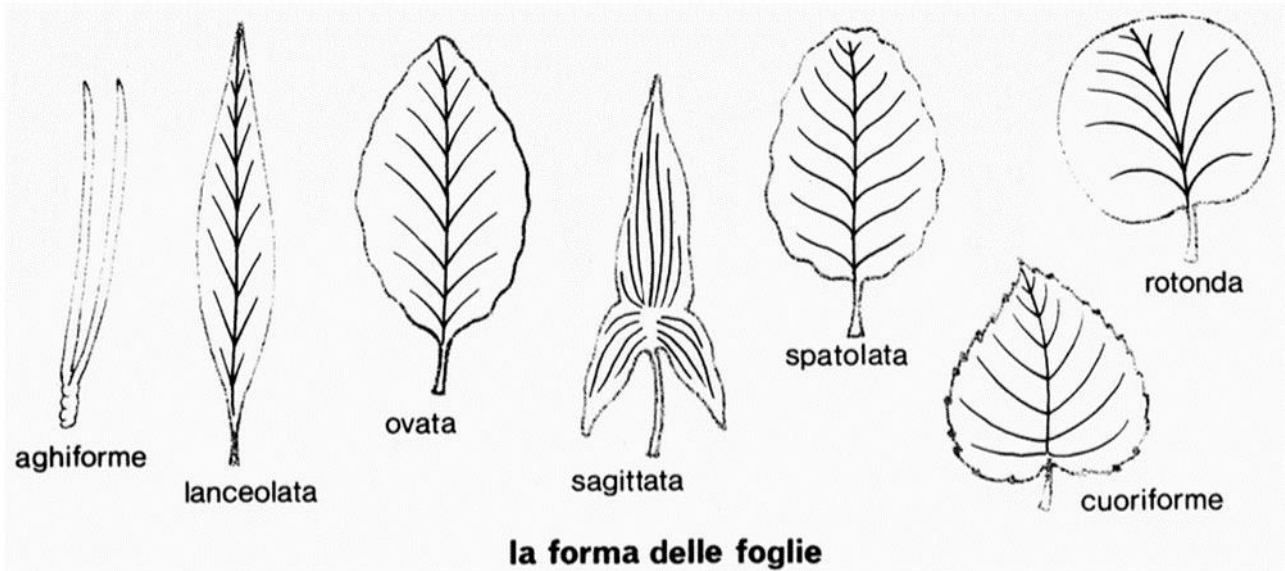
## Il margine delle foglie

Scrivi il tipo di margine delle foglie disegnate:





# La forma delle foglie





## La forma delle foglie

Le foglie hanno forma diversa.

Sapresti individuare la forma delle foglie disegnate?

