

LE PARTI DELLA PIANTA

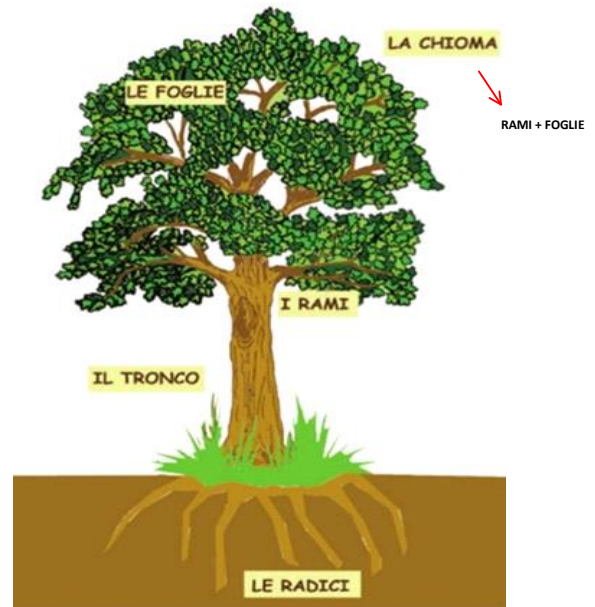
Ciao bambini, ben ritrovati... continuiamo la nostra lezione sulle **PIANTE** !!!

Adesso sapete riconoscere una pianta dal suo fusto. Abbiamo detto, infatti, nella lezione precedente che le piante in base al fusto possono essere suddivise in tre gruppi: **alberi**, **arbusti** e **piante erbacee**.

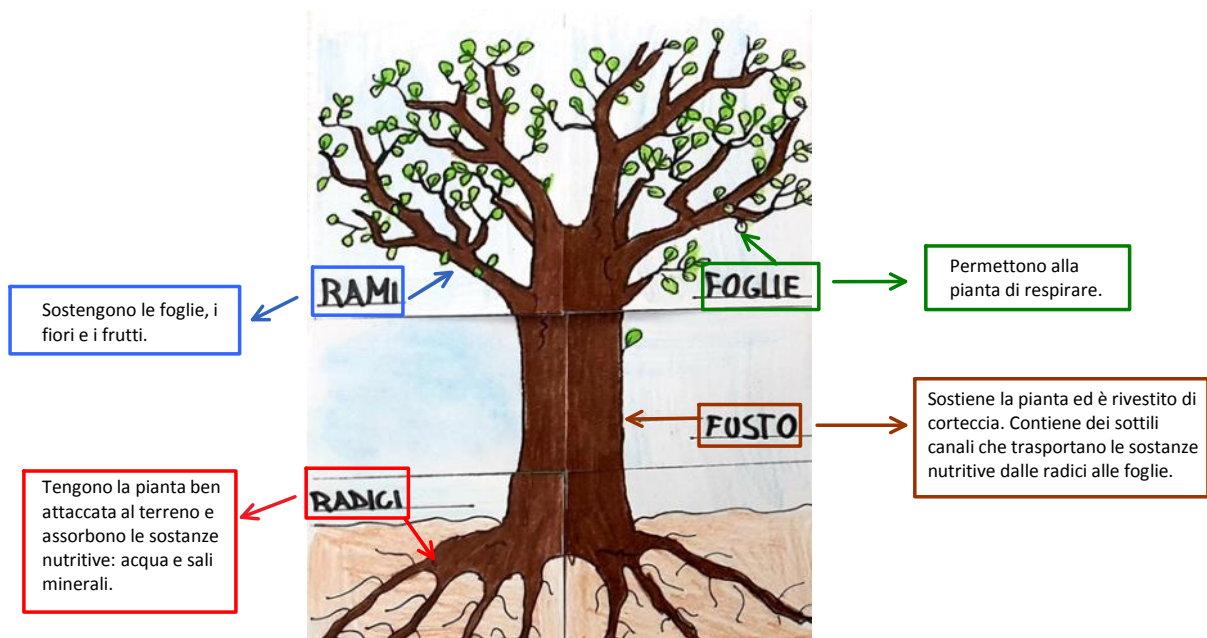
Bene.. in questa lezione inizieremo a vedere quali sono, invece, le parti più importanti di una pianta qualunque essa sia.

Dovete sapere che tutte le piante, sono costituite dalle stesse parti: **RADICI**, **FUSTO**, **RAMI** E **FOGLIE**

Osservate questa immagine... ogni parte dell'albero ha un nome preciso!!



Adesso, andiamo a conoscere meglio le parti dell'albero e le funzioni che hanno...



Come abbiamo detto le parti della pianta, sono le stesse negli **ALBERI**, negli **ARBUSTI**, e nelle **PIANTE ERBACEE**.



ALBERO

- Le **RADICI** sono forti
- Il fusto è legnoso ed è chiamato **TRONCO**
- I **RAMI** partono dalla parte alta del tronco.
- La **CHIOMA** è formata da rami, foglie e fiori. Dai fiori nascono i frutti che contengono i semi indispensabili per la nascita di una nuova pianta.



ARBUSTO

- Il **FUSTO** è legnoso e meno robusto degli alberi
- I **RAMI** partono da terra
- Ci sono le **FOGLIE**
- Ci sono le **RADICI**



PIANTA ERBACEA

- Le **RADICI** sono sottili
- Il **FUSTO** è sottile, non legnoso, di colore verde, chiamato **STELO**
- Non ci sono i **RAMI**
- Ci sono le **FOGLIE**

Ora come sempre guardate questo video, vi aiuterà a capire meglio la lezione che stiamo affrontando...

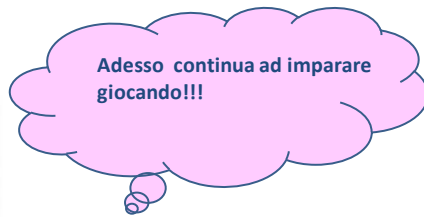


https://youtu.be/u_9oITlOrf

Ora è il tuo turno, di seguito trovi due schede per verificare se quello che hai appena imparato ti è chiaro. Se non riesci a stamparle, scrivi:

- ▶ **SCHEDA 1** : disegna sul quaderno o sul foglio l'albero che vedi illustrato nella scheda, scrivendo di fianco le sue parti.
- ▶ **SCHEDA 2**
ES. 1: ricopia IL TESTO inserendo le parole al posto giusto utilizzando colori diversi.
ES. 2: scrivi le parti della pianta uno sotto l'altro e di fianco ad ognuna la sua funzione.

Cerca di fare il compito in maniera chiara e ordinata.



<https://wordwall.net/it/resource/1294413/scienza/la-parti-della-pianta>

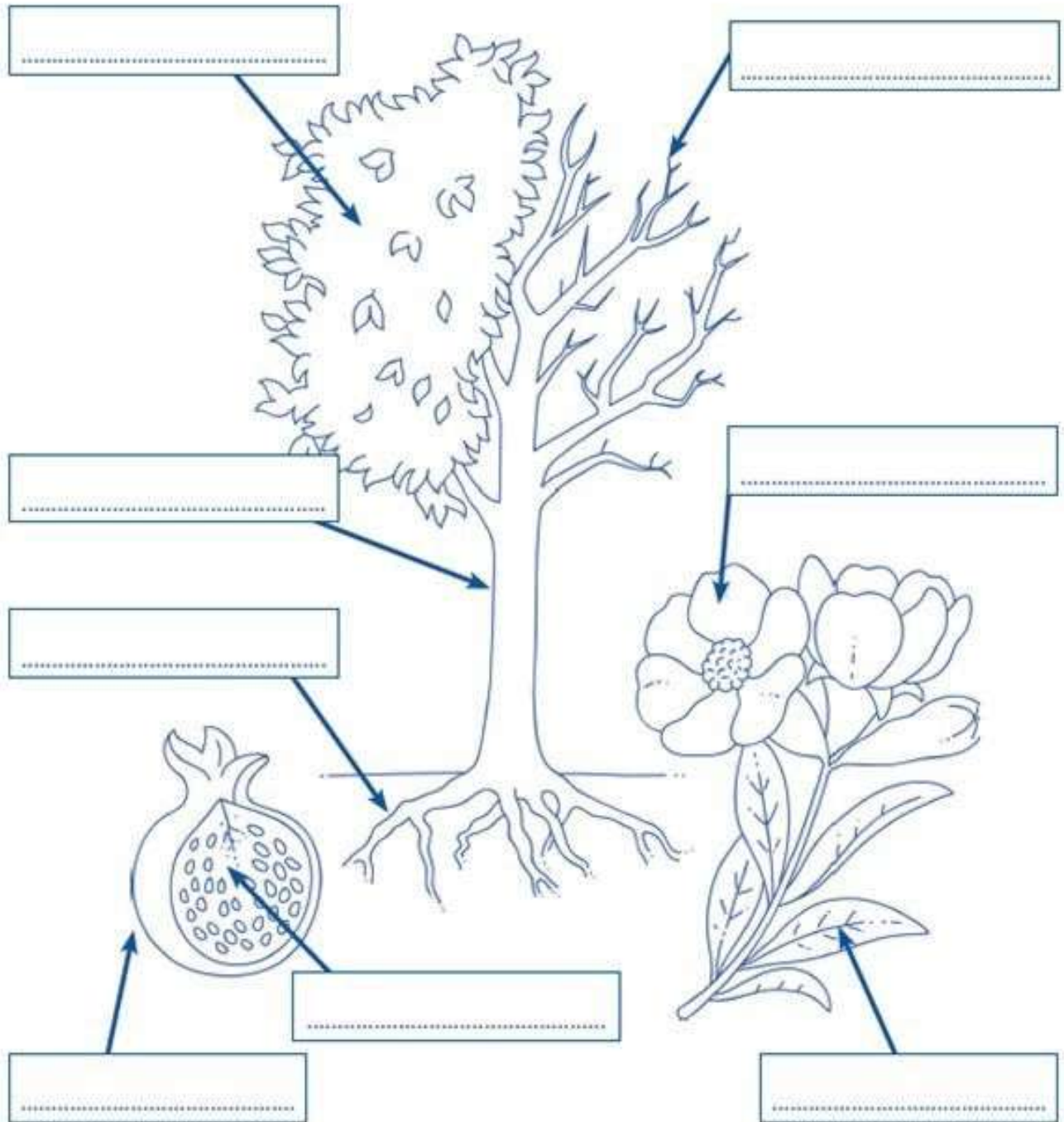
<https://wordwall.net/it/resource/1707619/scienza/le-parti-della-pianta-i-tipi-di-pianta>

<https://wordwall.net/it/resource/1316183/scienza/scienze-le-parti-della-pianta>

LE PARTI DELLE PIANTE

- Scrivi nei cartellini le parole date.

chioma – fiore – foglia – frutto – tronco – radice – ramo – seme



- *Completa con : albero – arbusto – pianta erbacea*



Com'è fatta una pianta?

- *Completa il testo scrivendo le parole al posto giusto:*

radici – foglie – sali minerali - semi – stelo – acqua – rami – tronco – fusto

Le servono alla pianta per respirare e per trasformare le sostanze assorbite dal terreno.

I sostengono le foglie, i fiori e i frutti.

Dai fiori si sviluppano i che contengono i indispensabili per la nascita di una nuova pianta.

Il serve a sostenere la pianta e a trasportare le sostanze nutritive.

Negli alberi è rivestito di corteccia e si chiama

Il fusto delle piante erbacee è sottile e flessibile e si chiama

Le radici si sviluppano sotto terra e fissano la pianta al terreno. Da lì assorbono l' e i



Scrivi il nome delle parti dell'albero

- *Completa la tabella spiegando in breve la funzione svolta dalle diverse parti della pianta*

Parte della pianta	Funzione
foglie
radici
fusto
rami
fiori