
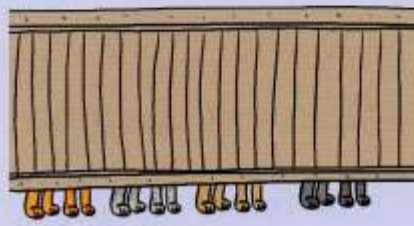
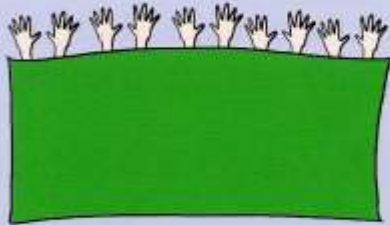
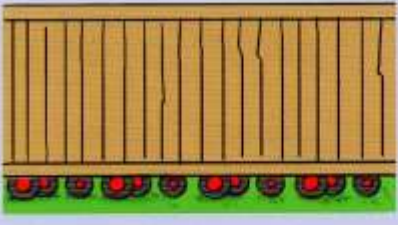



NON STAMPARE Copia sul quaderno la consegna ed esegui.

Osserva le immagini, copia le domande e completa.

1		Quanti piedi in questa immagine? ____ Quanti piedi per ogni persona? ____ Quante persone? ____ ____ : ____ = ____
2		Quante zampe in questa immagine? ____ Quante zampe per ogni gatto? ____ Quanti gatti? ____ ____ : ____ = ____
3		Quante mani in questa immagine? ____ Quante mani per ogni bimbo? ____ Quanti bimbi? ____ ____ : ____ = ____
4		Quante ruote in questa immagine? ____ Quante ruote per ogni triciclo? ____ Quanti tricicli? ____ ____ : ____ = ____
5		Quante bottiglie in questa immagine? ____ Quante bottiglie per ogni confezione? ____ Quante confezioni? ____ ____ : ____ = ____

6. Per risolvere queste situazioni problematiche hai dovuto distribuire o raggruppare?