

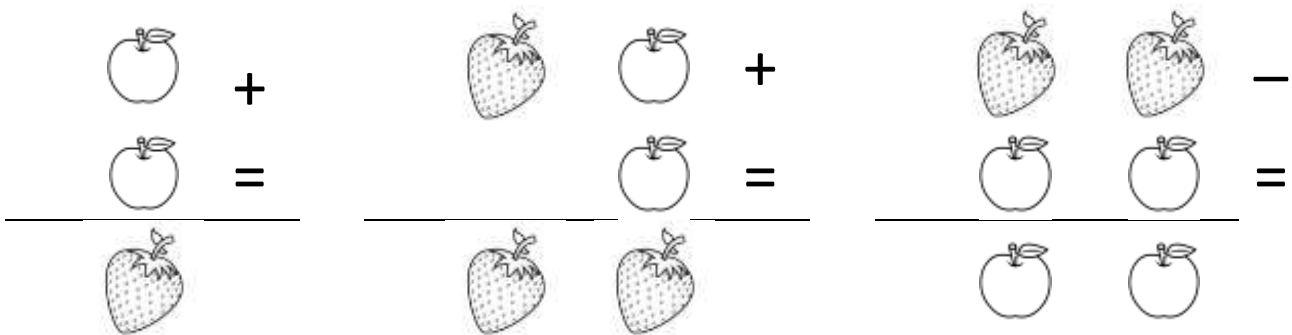
ESEGUI SUL QUADERNO.

OPERAZIONI IN CODICE ...


Quanto può valere la fragola? E la mela? Copia sul quaderno un'operazione in codice alla volta, trova tutte le possibilità e scriville.

Attenzione!! Ogni operazione con i simboli può essere sostituita da più operazioni con i numeri.


Ogni frutto ha sempre lo stesso valore, ma solo nella stessa operazione.



Copia sul quaderno le operazioni con i simboli e solo le operazioni con i numeri a cui possono corrispondere.



$\begin{array}{r} 5 \\ 3 \\ 2 \end{array} \begin{array}{r} 5 \\ 3 \\ 2 \end{array} -$	$\begin{array}{r} 6 \\ 3 \\ 3 \end{array} \begin{array}{r} 7 \\ 3 \\ 4 \end{array} -$	$\begin{array}{r} 4 \\ 2 \\ 2 \end{array} \begin{array}{r} 4 \\ 2 \\ 2 \end{array} -$	$\begin{array}{r} 7 \\ 4 \\ 3 \end{array} \begin{array}{r} 7 \\ 4 \\ 3 \end{array} -$	$\begin{array}{r} 3 \\ 1 \\ 2 \end{array} \begin{array}{r} 3 \\ 1 \\ 2 \end{array} -$
---	---	---	---	---



$\begin{array}{r} 36+ \\ \underline{36=} \\ 72 \end{array}$	$\begin{array}{r} 24+ \\ \underline{24=} \\ 48 \end{array}$	$\begin{array}{r} 21+ \\ \underline{21=} \\ 42 \end{array}$	$\begin{array}{r} 12+ \\ \underline{12=} \\ 24 \end{array}$	$\begin{array}{r} 31+ \\ \underline{21=} \\ 52 \end{array}$
---	---	---	---	---

... E NON

Calcola in colonna.

$57 + 28 =$

$39 + 55 =$

$46 + 240 =$

$92 - 54 =$

$73 - 29 =$

$85 - 46 =$

$13 \times 7 =$

$24 \times 3 =$

$18 \times 5 =$

Calcola in riga.

$27 : 9 =$

$36 : 4 =$

$42 : 7 =$

$54 : 6 =$

$72 : 8 =$

$28 : 7 =$

$18 : 2 =$

$35 : 5 =$

$64 : 8 =$

$30 : 10 =$

